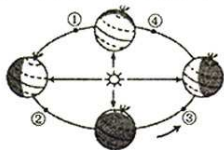




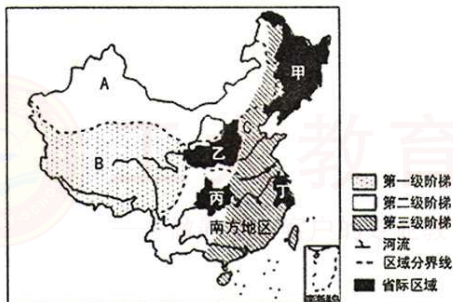
7. 日本是个东西方文化交融的国度,其中文字、和服、茶道主要融合了
- A. 韩国文化 B. 美国文化 C. 中国文化 D. 英国文化
8. 关口是指通往一个地区狭窄而险要的通道。位于河西走廊著名的关口是
- A. 居庸关 B. 山海关 C. 嘉峪关 D. 娘子关
9. 下列诗句以河西走廊为地域背景的是
- A. 日啖荔枝三百颗,不辞长作岭南人 B. 葡萄美酒夜光杯,欲饮琵琶马上催
- C. 长江绕郭知鱼美,好竹连山觉笋香 D. 蒹葭满地芦芽短,正是河豚欲上时
10. 2017年4月20日19时41分,搭载中国首个货运飞船“天舟一号”的长征七号火箭在海南岛文昌航天发射场发射成功。右图为“地球公转示意图”。火箭发射时地球在公转轨道上的位置更接近图中的
- A. ①点 B. ②点 C. ③点 D. ④点



第II卷(非选择题,共30分)

二、非选择题(共30分)

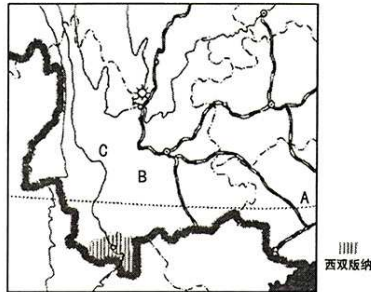
11. (10分)读“中国地势三级阶梯和四大地理区域示意图”,完成下列各题。



- (1)在图中用2B铅笔或碳素笔描出地势第一、二级阶梯的分界线。(1分)
- (2)写出图中字母所代表的四大地理区域的名称。(3分)
- A. _____ B. _____ C. _____
- (3)将图中甲、乙、丙、丁所代表的省际区域用直线连接起来。(4分)
- | | |
|---|---------|
| 甲 | 成渝地区 |
| 乙 | 长江三角洲地区 |
| 丙 | 东北三省 |
| 丁 | 黄土高原 |
- (4)说出我国地势的主要特征。(2分)



12. (10分)读“西双版纳地理位置示意图”,完成下列各题。



(1)写出图中字母所代表的地理事物的名称。(3分)

纬线:A _____ 省区:B _____ 河流:C _____

(2)西双版纳北面有云贵高原作屏障,阻挡冬季寒冷的空气,夏季受印度洋 _____ 季风的吹拂,气候湿润,动植物资源十分丰富。(1分)

(3)下列美称属于西双版纳的是() (2分)

- A. “黄金走廊”
- B. “动植物王国”
- C. “天府之国”
- D. “鱼米之乡”

(4)下列热带植物能够独木成林的是() (2分)



A. 望天树



B. 板根树



C. 榕树



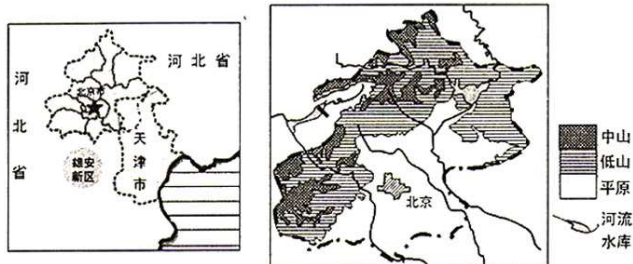
D. 铁树

(5)旅游业对西双版纳经济发展起很大促进作用。简析西双版纳发展旅游业的优势条件。(2分)



13. (10分) 阅读图文资料, 完成下列各题。

材料一 左图为“雄安新区位置示意图”, 右图为“北京地形示意图”。



材料二 2017年4月1日, 中共中央、国务院决定设立雄安新区。这是继深圳经济特区和上海浦东新区之后又一具有全国意义的新区, 雄安新区位属河北省, 涵盖河北省雄县、容城、安新等3个县及周边部分区域。设立雄安新区, 对于集中疏解北京非首都功能, 探索人口经济密集地区优化开发新模式, 调整优化京津冀城市布局 and 空间结构, 培育创新驱动发展新引擎, 促进北部地区的区域和经济发展, 弥合首都与周围地区的经济差距, 具有重大现实意义和深远历史意义。

- (1) 在左图的适当位置标注渤海名称。(1分)
- (2) 北京是祖国的心脏, 也是世界著名古都, 其背靠燕山山脉, 位于_____平原北部边缘, 地势_____高、_____低, 河流多流向东南, 最终注入渤海。(3分)
- (3) 雄安新区是我国继深圳经济特区和_____浦东新区之后又一具有全国意义的新区, 位属_____省。(2分)
- (4) 国家在强调北京作为全国政治文化中心的同时, 要把北京建设成为世界一流的现代化国际大都市。下列做法正确的是() (2分)

| | |
|-----------------|---------------|
| A. 四合院等老旧建筑全部拆除 | B. 大力发展房地产业 |
| C. 积极推进高新技术产业发展 | D. 重点发展钢铁等重工业 |
- (5) 请说出设立雄安新区的重大意义。(2分)



太原市 2017 年八年级结业考试 生物、地理试题参考答案及评分标准 生物部分

一、选择题(每小题 2 分,共 20 分)

| | | | | | | | | | | |
|----|---|---|---|---|---|---|---|---|---|----|
| 题号 | 1 | 2 | 3 | 4 | 5 | 6 | 7 | 8 | 9 | 10 |
| 答案 | A | C | D | B | D | A | C | B | B | C |

二、非选择题(30 分)

11. (每小题 1 分,共 5 分)

- (1)× (2)× (3)√ (4)√ (5)√

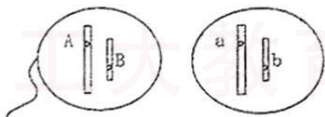
12. (每空 1 分,共 8 分)

- (1)受精卵(答“卵”可不扣分) 有性生殖
 (2)鳃 肺 变态发育
 (3)蛹 完全变态 外骨骼

13. (除标明分值外,其余每空 1 分。共 9 分)

- (1)[答案如下图所示。要求每个细胞中画两条染色体(一长一短),并标对基因。每条染色体面对 1 分,共 4 分]

生殖细胞



(2)雄性

- (3)每对染色体中的一条(2 分) 保证子代获得亲代的整套遗传信息(基因、遗传物质)
 (其他答案大意相近即可,2 分)

14. (前两空各 1 分,其余每空 2 分,共 8 分)

实验步骤③:不同 相同

- (1)金鱼个体较大,观察时不需要显微镜,操作简便;金鱼个体较大,不易死亡;金鱼呼吸的快慢可通过鳃盖或口的张合反映出来,容易观察和计数(答出其中任意一点即可,其他答案有道理亦可)
 (2)烟草浸出液会影响金鱼的呼吸频率(或“烟草浸出液会增加金鱼的呼吸频率”、“烟草浸出液浓度越大,金鱼呼吸频率越快”等。答“烟草浸出液会危害金鱼的健康”、“烟草浸出液会影响人的健康”、“吸烟确实有害健康”可给 1 分)
 (3)持续观察记录金鱼在烟草浸出液中的呼吸、运动、平衡、摄食等生活状况,正常喂食,观察记录每条金鱼的死亡时间(大意相近即可)

评分说明:全卷答案仅供参考,有些试题答案可有多种,评卷时可以根据学生的答题情况参照上述标准评分。



太原市 2017 年八年级结业测试

生物、地理试题参考答案及评分标准

地理部分

一、选择题(每小题 2 分,共 20 分)

| | | | | | | | | | | |
|----|---|---|---|---|---|---|---|---|---|----|
| 题号 | 1 | 2 | 3 | 4 | 5 | 6 | 7 | 8 | 9 | 10 |
| 答案 | C | B | D | A | D | D | C | C | B | A |

二、非选择题(共 30 分)

11.(10 分)

(1)图略(1 分)

(2)西北地区 青藏地区 北方地区(3 分)

(3)(每连对一处得 1 分,共 4 分)

甲—东北三省 乙—黄土高原 丙—成渝地区 丁—长江三角洲地区

(4)西高东低;自西向东逐级下降(或呈三级阶梯状分布)(2 分)

12.(10 分)

(1)北回归线(或 23.5°N) 云南省 澜沧江(3 分)

(2)西南(1 分)

(3)B(2 分)

(4)C(2 分)

(5)地处西南边境的地理位置,可以发展边境旅游和出境旅游;热带风光独特,风景宜人;热带森林茂密,有丰富的动植物资源,可以发展森林生态旅游;少数民族聚居的地方,可以发展民俗风情方面的旅游;政策支持等。(答出任意两点即可得 2 分)

13.(10 分)

(1)图略(1 分)

(2)华北 西北 东南(3 分)

(3)上海 河北(2 分)

(4)C(2 分)

(5)设立雄安新区,对于集中疏解北京非首都功能;探索人口经济密集地区优化开发新模式;调整优化京津冀城市布局和空间结构;培育创新驱动发展新引擎;促进北部地区的区域和经济发展;弥合首都与周围地区的经济差距,具有重大现实意义和深远历史意义等。(答出任意两点即可得 2 分)

评分说明:以上答案仅供参考,言之有理酌情给分。地理事物名称出现错别字不得分。