



太原市 2016~2017 学年第二学期七年级期末考试

信息技术试卷


(考试时间:下午 4:10—5:10)


说明:本试卷为闭卷笔答,答题时间 60 分钟,满分 100 分。

题号	一	二	三	四	总分
得分					

一、单项选择题(本题共 20 小题,每小题 2 分,共 40 分。将正确选项对应的字母填在下表相应位置)

题号	1	2	3	4	5	6	7	8	9	10	11	12	13	14	15	16	17	18	19	20	
答案																					

- 2017 年 5 月 14 日至 15 日,举世瞩目的“一带一路”国际合作高峰论坛在北京举行,全球上亿人同时观看了实况转播。这主要体现了信息具有
 - 普遍性
 - 共享性
 - 真伪性
 - 价值相对性
- 班主任利用微信群给学生家长发通知,这体现的是因特网服务功能中的
 - 查询信息
 - 网络会议
 - 即时通信
 - 远程登录
- 小华同学想将“照片”文件夹中不连续的 3 张照片复制到另一个文件夹中,选择这 3 张照片时应按住
 - Ctrl 键
 - Shift 键
 - Alt 键
 - Tab 键
- 下列行为中正确的是
 - 将自己在书店购买的图书拍照,发布在网上供大家免费阅读
 - 瞒着家长,到外地与网友见面
 - 通过网上提供的工具来破解同学的 QQ 密码
 - 引用他人文章中的观点,并标明出处
- 小刚的 QQ 号是 159357852,如果给他的 QQ 邮箱发送一张图片,则 159357852@qq.com 是
 - 收件人地址
 - 主题内容
 - 正文内容
 - 附件内容
- 计算机的输入法状态如下图所示,此时击键盘上的  键,则输入的是
 - .
 - 。
 - ?
 - ;



测评编号
姓名
班级
学校

题
答
要
不
内
线
封
弥



7. 用 Word 软件进行图文混排时, 要将图片做为文字的背景, 应将图片的版式设置为

- A. 衬于文字下方
- B. 四周型
- C. 紧密型
- D. 浮于文字上方



8. 要将右图中的人物变得更加清晰, 可以调整人物所在图层的

- A. 图像大小
- B. 画布大小
- C. 不透明度
- D. 灰度

9. 下列软件中能用于声音录制和编辑的是

- A. Excel
- B. GlodWare
- C. Word
- D. PowerPoint

10. 用 Word 软件进行文本编辑和表格制作时, 下列说法错误的是

- A. 三号字比五号字小
- B. 对段落可以设置首行缩进, 也可以设置左缩进和右缩进
- C. 分栏不仅可以设置“栏数”, 还可以设置栏之间的“间距”
- D. 插入一个表格后, 可以对单元格进行合并和拆分, 还可以对行高列宽进行调整

11. 小玲用 Photoshop 进行作品创作, 如果她以后还要对该作品进行加工, 应选择作品的保存格式为

- A. jpg
- B. bmp
- C. psd
- D. png

12. 小华编写了一个加法练习小程序, 并生成了可执行文件, 双击该文件后计算机会自动出题, 学生输入答案后屏幕即刻显示答案是否正确并给出评分。这个可执行文件是

- A. 加法 .jpg
- B. 加法 .txt
- C. 加法 .doc
- D. 加法 .exe

13. 我们现在足不出户就可以与世界各地的风景名胜进行“合影”。利用 Photoshop 进行人像与风景的合成时, 至少需要的图层个数是

- A. 1
- B. 2
- C. 3
- D. 4

14. 李飞同学用 Word 软件打开一篇名为“Photoshop 简介”的文章, 在电脑屏幕上显示如下图所示。要使文章内容正常显示, 应调整文档的

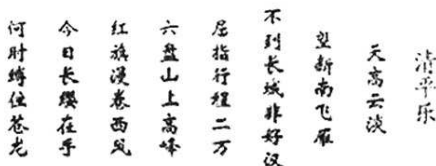
Adobe Photoshop, 简称“PS”, 是田 Adobe Systems 开发发行的图像处理软件。使用其众多的编辑与绘图工具, 可以有效地进行图片编辑工作。

- A. 对齐方式
- B. 字号
- C. 段间距
- D. 行距



15. 在 Word 文档中,要实现下图所示的文字竖排效果,应设置

- A. 字体
- B. 段落
- C. 文字方向
- D. 页面方向



16. 百度的域名是 www.baidu.com, 其中 com 表示该网站的性质是

- A. 政府部门
- B. 教育机构
- C. 商业网站
- D. 公益组织

17. 在 Word2003 文档中单击选定一个对象后,出现与之相关的工具栏如图所示,那么所选对象是



- A. 文本框
- B. 艺术字
- C. 图片
- D. 自选图形

18. 李萍利用 photoshop 进行绘画,她已经绘制了一只大雁,如果她要快速画出多只大雁飞翔的效果,可以选用的工具是

- A. 裁剪工具
- B. 红眼工具
- C. 污点修复画笔工具
- D. 仿制图章工具

19. 关于演示文稿,下列说法错误的是

- A. 只能为所有幻灯片设置统一的切换方式
- B. 幻灯片放映时可以按设定的时间自动播放,也可以单击鼠标切换幻灯片
- C. 演示文稿打包后,可以在未安装 PowerPoint 应用程序的计算机上运行
- D. 自定义动画有进入、强调、退出、动作路径等多种动画效果

20. 下列文件中为视频文件的是

- A. 感恩的心.wav
- B. 回家.mp3
- C. 春天.avi
- D. 幸福.ppt

二、判断题(本题共 10 小题,每小题 2 分,共 20 分。将判断结果填在下表相应位置,正确的打“√”,错误的打“×”)

题号	21	22	23	24	25	26	27	28	29	30
答案										

21. 图文并茂的信息技术教材本身不是信息,教材中包含的内容才是信息。

22. 常用的视频格式转换软件有格式工厂、会声会影、CorelDraw 等。








23. 演示文稿中的超链接不仅可以链接到本演示文稿中的其它幻灯片,也可以通过超链接打开计算机上的其他文件。
24. 王乐春游时给同学们拍了许多数码照片,他可以通过“添加附件”的方式把这些照片通过电子邮件发给同学们。
25. 计算机网络按覆盖范围的大小可以分为局域网、广域网和因特网。
26. 只要是微信朋友圈中的信息我们都应该相信,并且可以随意进行转发。
27. 在 Word 文档中插入图片和艺术字后可以根据需要调整版式(即文字环绕方式),在 PowerPoint 中插入图片和艺术字后不需要调整版式。
28. 我们可以通过滤镜为图像添加某种艺术效果,以增强图像的感染力,多种滤镜效果不能叠加使用。
29. 今年自 5 月 12 日起,一款名为“永恒之蓝”电脑病毒在全球蔓延,受感染电脑中的照片、文档、音视频等几乎所有文件都会被加密。必须通过一次性支付一定费用才能将其解锁,否则 7 天后将永久无法恢复。对这种编制和传播计算机病毒,并进行敲诈勒索的行为,不仅要用技术手段防止病毒给我们的信息资源造成破坏,还应该用法律手段对涉案人员进行严惩。
30. 资源管理器管理文件采用的文件目录结构是树型结构。

三、连线题(本题共 3 小题,每小题 5 分,共 15 分)

31. 将下列缩写与对应的中文含义连线。

- | | |
|--------|------|
| IT | 文件传输 |
| E-mail | 万维网 |
| FTP | 浏览器 |
| WWW | 信息技术 |
| IE | 电子邮件 |

32. 将下列图标与对应的名称连线。

- | | |
|--|--------|
|  | 横排文字工具 |
|  | 裁剪工具 |
|  | 魔棒工具 |
|  | 移动工具 |
|  | 油漆桶工具 |



33. 将下列软件与对应的功能连线。

- | | |
|---------------------|----------|
| Word | 图像处理 |
| Photoshop | 多媒体作品制作 |
| PowerPoint | 视频编辑 |
| Winrar | 文件压缩与解压缩 |
| Windows Movie Maker | 文字处理 |

四、实践与探究(本题共 3 小题, 共 25 分)

2017 年 5 月 5 日 14 时许,我国自主研发的新一代喷气式大型客机 C919 在上海浦东机场起飞! C919 是我国具有完全自主知识产权的新一代大型喷气式客机。它也意味着中国跨入能够自主制造大型客机的行列!

看到以上消息,小明和同学们决定分工合作,制作一期关于 C919 的多媒体作品。

34. (5 分)如果你的任务是从网上收集 C919 相关图片,你如何找到相关图片,并保存到计算机中?



35. (12 分)下面是从网上下载的两张图片,为再现 C919 客机在空中飞行的情景,需将图 1 中的飞机(不包括白色背景)与图 2 进行合成。简述图像合成的主要操作流程(写明操作要点)。



图 1



图 2



36. (8分)对比图3与图4两张幻灯片,找出图3所示幻灯片至少两点不足之处,并提出具体改进建议。



图3



图4





太原市 2016~2017 学年第二学期七年级期末考试

信息技术试题参考答案与评分标准

一、单项选择题(本题共 20 小题,每小题 2 分,共 40 分)

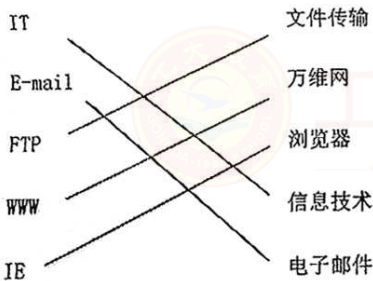
题号	1	2	3	4	5	6	7	8	9	10	11	12	13	14	15	16	17	18	19	20
答案	B	C	A	D	A	B	A	C	B	A	C	D	B	D	C	C	B	D	A	C

二、判断题(本题共 10 小题,每小题 2 分,共 20 分。将判断结果填在下表中,正确的打“√”,错误的打“×”)

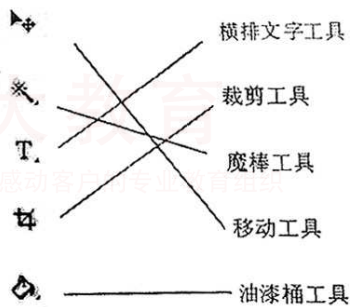
题号	21	22	23	24	25	26	27	28	29	30
答案	√	×	√	√	×	×	√	×	√	√

三、连线题(本题共 3 小题,每小题 5 分,共 15 分)

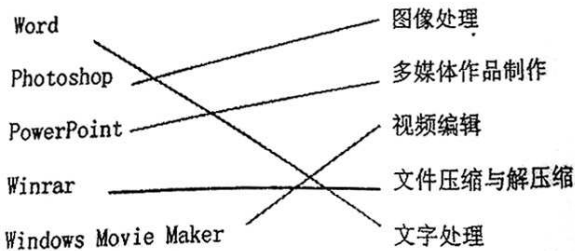
31. 将下列缩写与对应中文含义连线



32. 将下列图标与对应的名称连线



33. 将下列软件与对应的功能连线





四、实践与探究(本题共 3 小题,共 25 分)

34.(5 分)

使用搜索引擎(1 分),关键字应用合理(2 分)、保存方法得当(2 分)

35.(12 分)

正确选取飞机(6 分)。使用工具说明正确(2 分)选取方法合理(4 分)

说明:可用魔棒工具选择图片背景后反选,也可用其他工具如磁性套索工具,只要能完成选择也可得分。

图片合成(6 分)。复制图片、变换大小、位置调整各 2 分。

36.(8 分)

(1)指出不足(4 分)。每点 2 分,指出两点或两点以上得 4 分。

(2)改进建议(4 分)。每点 2 分,两点或两点以上得 4 分。

参考要点:

可以从主题是否突出,页面是否美观,是否合理应用相关技术等角度进行解答,改进建议要明确具体。只要言之有理即可。