



## 太原市 2016~2017 学年第一学期七年级期末考试

### 历史试卷

(考试时间:上午 10:00——11:30)

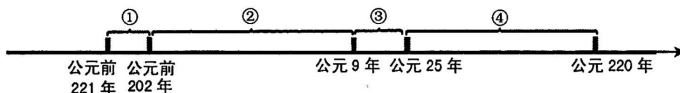
说明:本试卷为闭卷笔答,答题时间 90 分钟,满分 100 分。

题号	一	二	三	四	总分
得分					

#### 一、单项选择题(本大题含 15 小题,每小题 2 分,共 30 分)

题号	1	2	3	4	5	6	7	8	9	10	11	12	13	14	15
选项															

- “汉祖起丰沛,乘运以跃鳞。手奋三尺剑,西灭无道秦。”这首诗描述了  
A. 刘邦打败项羽,统一了全国  
B. 刘邦推翻暴秦统治,建立汉朝  
C. 刘邦巩固大一统,加强中央集权  
D. 项羽在巨鹿之战歼灭秦军主力
- 《汉书·食货志》记载,西汉刚建立时,“民失作业,而大饥馑。凡米石五千,人相食,死者过半。”面对这样的社会状况,西汉统治者采取的治国政策是  
A. 休养生息  
B. 文景之治  
C. 削弱侯国  
D. 实行分封
- 西汉文帝和景帝时期,政治清明,经济发展,人民生活安定,国力增强,史称这一时期的统治局面为“文景之治”。下列属于文景时期采取的措施有  
①提倡以农为本,把田赋降到三十税一 ②重视“以德化民”,废除严刑苛法 ③让士兵还乡务农,释放奴婢为平民 ④提倡勤俭治国,反对奢侈浮华  
A. ②③④  
B. ①③④  
C. ①②④  
D. ①②③
- 在下列年代尺上序号标记的时间段中,西汉存在的时间是哪一段?



- A. ① B. ② C. ③ D. ④
- 太原历史上有很多别称,其中“并州”之称来自于汉代政府在此设立的并州刺史部。当时全国有 13 个州部,并州刺史部是其中之一。政府在该州部派刺史一人,代表朝廷监视州部内的地方官吏、豪强及子弟,严禁他们为非作歹。这一举措开始于  
A. 汉文帝  
B. 汉景帝  
C. 汉宣帝  
D. 汉武帝



6. 下表列出了东汉后期 10 个皇帝的年龄及寿命。这种状况导致的直接后果是

皇帝	和帝	殇帝	安帝	顺帝	冲帝	质帝	桓帝	灵帝	少帝	献帝
即位年龄	10	1	13	11	2	8	15	12	14	9
寿命(岁)	27	2	31	30	3	9	36	34	14	54

- A. 爆发农民起义      B. 外戚宦官交替专权      C. 东汉走向灭亡      D. 诸侯割据一方
7. 创立太平道的张角, 经过 10 多年在社会底层传教, 信徒已有数十万人。184 年, 经过精心策划, 张角等领导的一场有组织、有准备的农民大起义终于爆发了。……历时九个月的黄巾起义最后被镇压下去, 但余部坚持斗争了 20 多年, 沉重打击了东汉的统治。这段材料反映了东汉末年农民起义的
- A. 原因及影响      B. 原因及经过      C. 原因及特点      D. 特点及影响
8. 近几十年来, 在我国新疆地区发现了许多汉代的丝织品, 在马来西亚发掘出与汉代陶片纹饰相似的陶片, 在印度尼西亚出土了汉代的钱币和陶器。这些实物的发现证实了
- A. 张骞曾两次出使西域      B. 班超曾最远到达大秦  
C. 陆海丝绸之路的存在      D. 中亚与东南亚都是中国版图
9. 东汉班固撰写的《汉书·司马迁传》中, 称赞《史记》是“其文直、其事核、不虚美、不隐恶, 故谓之实录”。下列选项符合作者这一评价的是
- A. 书中记录了帝王将相的历史活动      B. 本书是中国古代第一部纪传体通史  
C. 本书公正记事, 爱憎分明, 秉笔直书      D. 本书文笔优美, 所记人物形象生动
10. 张仲景是东汉末年的名医, 他虚心向名医求教, 四处奔走, 广泛收集民间药方, 总结前人医学成就并结合自己的实践, 推动了中医学的发展。他医术精湛, 医德高尚, 被后世称为“医圣”。下列属于其医学成就的有
- ①写成了《伤寒杂病论》一书    ②发明了“麻沸散”    ③开创了中医临床理论体系    ④创造出“五禽戏”    ⑤提出“治未病”理论, 提倡预防疾病
- A. ①②③④      B. ①③④      C. ①②③⑤      D. ①③⑤
11. 佛教在张骞通西域后通过丝绸之路传入中国。它的传入, 丰富了中国文化, 在社会、思想、文学以及建筑、雕刻、绘画等方面产生深远影响。下列图片反映了佛教在哪一方面的影响



- A. 雕刻      B. 绘画      C. 建筑      D. 文学
12. 下列历史史实的对应关系, 正确的是
- A. 220 年——曹操——魏国      B. 221 年——刘备——蜀国  
C. 230 年——孙权——吴国      D. 266 年——司马炎——东晋



13. 西晋结束了三国鼎立局面,完成全国统一,但它也是中国历史上二世而亡的短命王朝之一。

下列对西晋短期而亡原因的叙述,不正确的是

- A. 大贵族、大地主在治国方略上缺乏雄才大略  
B. 晋惠帝昏庸无能,统治阶级生活极为腐化  
C. 地方上的“八王之乱”推翻了西晋政权  
D. 内迁各少数民族反抗西晋的民族压迫
14. 东晋在\_\_\_\_\_中战胜前秦,解除了来自北方的威胁。相对稳定的局势,使社会经济有所发展,江南出现了“荆扬晏安,户口殷实”的景象。这段话中的\_\_\_\_\_处应填写的是
- A. 昆阳之战      B. 官渡之战      C. 赤壁之战      D. 淝水之战
15. 右图是中国在 1986 年发行的祖冲之纪念币,如果为纪念币中的人物写一个简介,你认为正确的是



- ①南朝杰出的科学家    ②撰写了《齐民要术》,对后世农学的发展有深远影响  
③把圆周率精确到小数点以后的第七位数字,这项成就领先世界近千年    ④制定出当时最先进的历法《大明历》

- A. ②③④      B. ①③④      C. ①②④      D. ①②③

## 二、简答题(本题共 14 分)

16. 文字和书写工具的发展与演变,从不同侧面见证了文化艺术领域的成就。读图,回答下列问题。



图 1 商朝甲骨文




图 2 秦小篆



图 3 《兰亭集序》



图 4 居延汉简



图 5 马王堆汉墓帛书




图 6 西汉纸本地图

- (1) 根据下列我国古代文字演变示意图,在括号内填写正确答案。(4 分)

甲骨文——金文——大篆——( )——隶书——( )——草书、行书

- (2) 上述图片反映出我国古代的书写材料发生了怎样的变化?(4 分)