



太原市 2018~2019 学年第二学期七年级期末考试

地理试卷

(考试时间:上午 10:00—11:30)

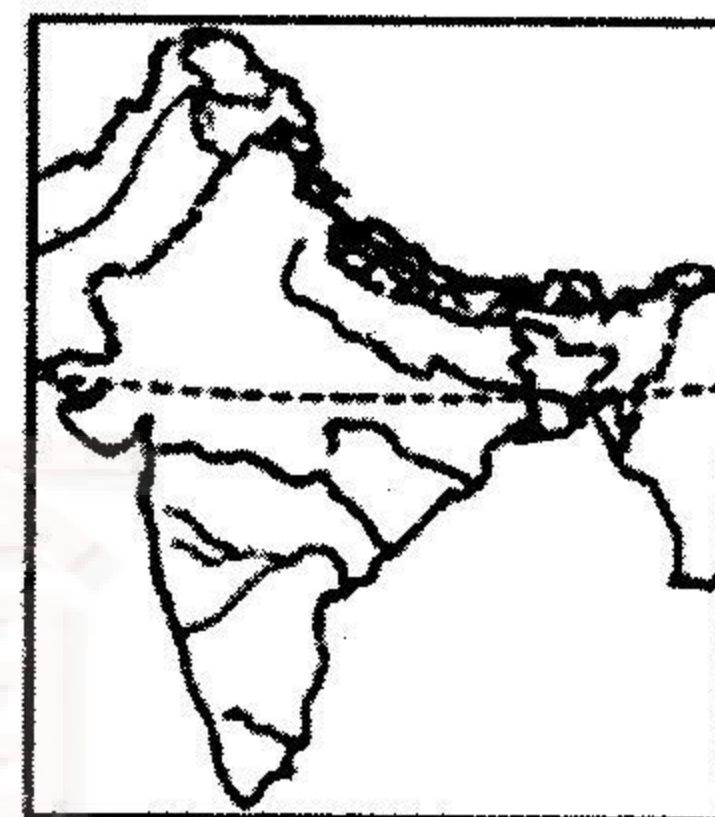
说明:本试卷为闭卷笔答,答题时间 90 分钟,满分 100 分。

题号	—	二					总分
		21	22	23	24	25	
得分							

一、选择题(本题含 20 小题,每小题 2 分,共 40 分。下列各题的选项中,只有一项符合题意,请将正确选项的序号填入下表相应位置。)

题号	1	2	3	4	5	6	7	8	9	10	11	12	13	14	15	16	17	18	19	20	
选项																					

目前,印度承接的软件外包业务约占全球软件外包市场的三分之二,被形象地称为“世界办公室”。右图示意印度。据此完成 1~3 题。



1. 印度地处南亚地区,横穿其领土中部的纬线是

- A. 南极圈
- B. 南回归线
- C. 北极圈
- D. 北回归线

2. 印度是世界第二软件大国,著名的信息技术中心是

- A. 孟买
- B. 加尔各答
- C. 新德里
- D. 班加罗尔

3. 印度发展信息技术服务外包产业的主要优势有

- ①人力资源丰富,劳动力成本低
- ②煤、铁等矿产资源丰富
- ③英语普及,信息技术发展较早
- ④纺织、钢铁等工业发达

- A. ①②
- B. ③④
- C. ①③
- D. ②④

右图示意印度“圣河”景观。据此完成 4、5 题。


4. 印度是世界文明古国之一,印度教徒认为用“圣河”水洗浴身体可将罪恶洗去,纯洁灵魂。该河流是指

- A. 印度河
- B. 恒河
- C. 墨累河
- D. 多瑙河



5. “圣河”位于印度中北部,河流季节变化、年际变化大,该流域最容易发生的自然灾害是

- A. 火山喷发
- B. 海啸
- C. 水旱灾害
- D. 寒潮

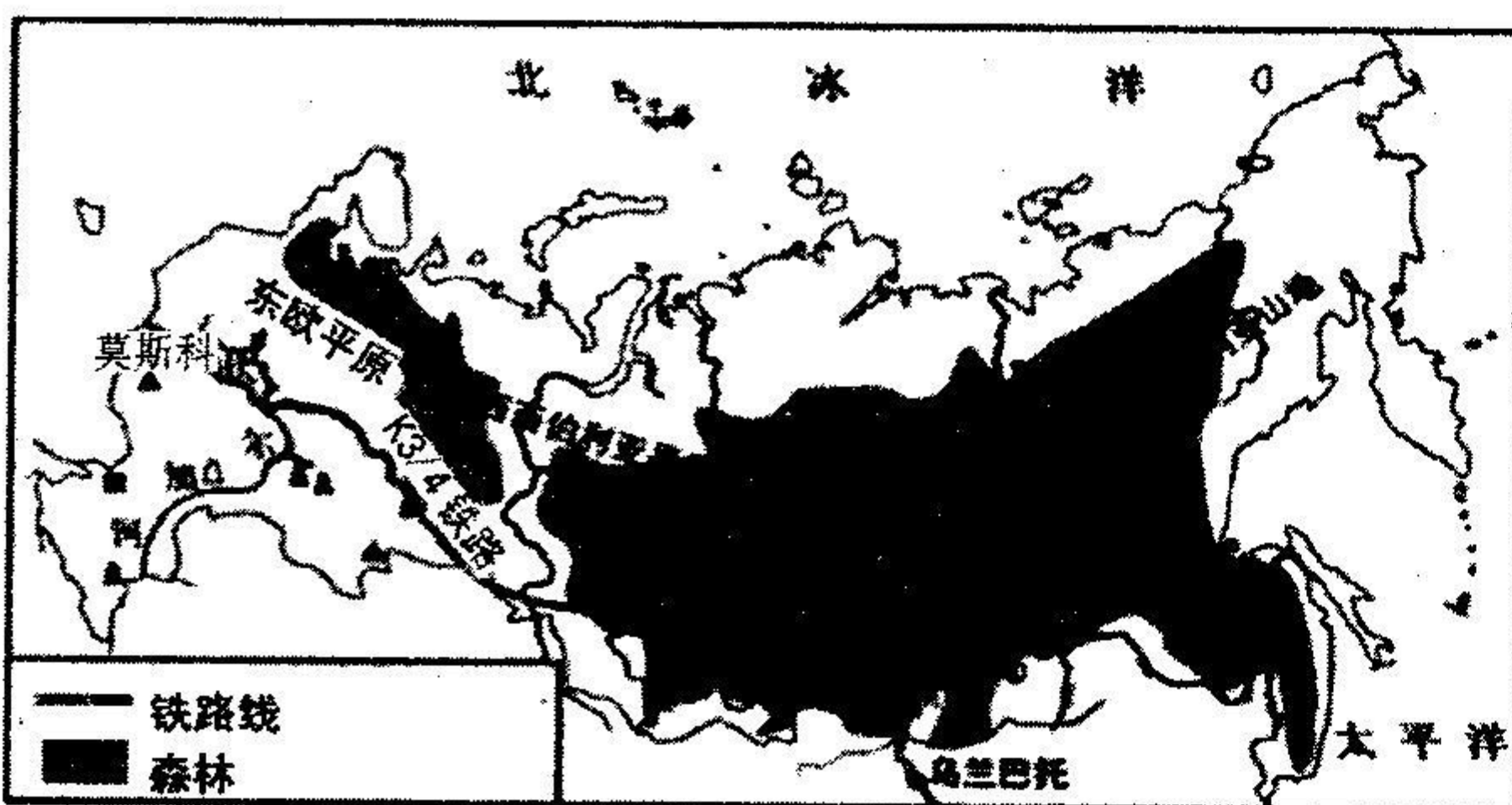


姓名: _____ 班级: _____ 学校: _____

题 答 要 不 内 线 封 弥



K3/4次列车,是中国铁路的一趟国际联运快速列车,运行于中国北京至俄罗斯莫斯科之间,运行时间约130小时,是中国铁路运行里程最长的列车,被誉为“中华第一车”。右图示意俄罗斯。据此完成6~8题。



6. K3/4次列车在俄罗斯境内运行的线路被称为

- A. 贝阿铁路
- B. 阿拉斯加铁路
- C. 西伯利亚大铁路
- D. 陇海铁路

7. K3/4次列车经过了俄罗斯大面积的森林,其最主要的植被类型是

- A. 热带雨林
- B. 亚寒带针叶林
- C. 温带落叶阔叶林
- D. 亚热带常绿阔叶林

8. 从北京出发到终点莫斯科,该列车最后经过的地形区是

- A. 东欧平原
- B. 西西伯利亚平原
- C. 中西伯利亚高原
- D. 东西伯利亚山地



9. 俄罗斯工业部门齐全,其中居世界领先水平的是

- A. 汽车制造业
- B. 核工业、航天工业
- C. 纺织工业
- D. 食品工业

10. 俄罗斯东西两端时间差异大的主要原因是

- A. 靠近北极地区
- B. 南北跨纬度广
- C. 地跨亚欧两大洲
- D. 东西跨经度广

菲律宾薄荷岛中部为丘陵,丘陵上的草在雨季时为绿色,旱季时则被炎热的太阳晒干变成咖啡色,酷似巧克力,因此得名“巧克力山”。右图示意菲律宾、薄荷岛及其气温曲线和降水量柱状图。据此完成11~13题。



11. 菲律宾所在的地区是

- A. 东亚
- B. 东南亚
- C. 欧洲西部
- D. 撒哈拉以南非洲

12. 薄荷岛的主要气候类型是

- A. 热带季风气候
- B. 热带草原气候
- C. 热带雨林气候
- D. 热带沙漠气候

13. 下列关于菲律宾的叙述,正确的是

- A. 东临南海
- B. 海岛旅游资源丰富
- C. 盛产温带水果
- D. 居民主要为黑色人种

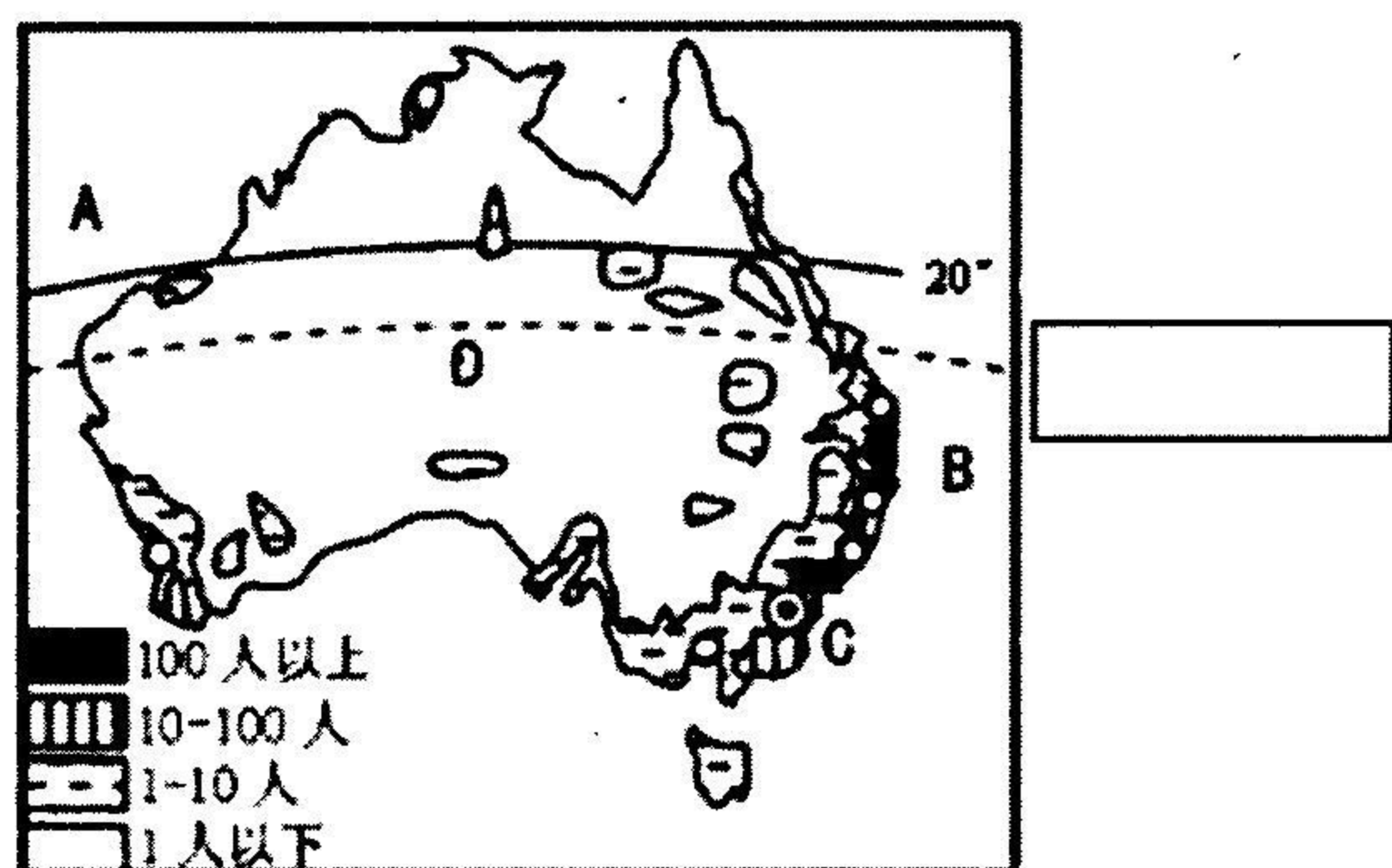




(4)根据图示,完成下列表格。(6分)

	甲区域	乙区域
分布地区	东北地区	南部地区
自然资源		
主要农业带		
主要工业部门		

22. (15分)读“澳大利亚人口和城市分布示意图”,完成下列要求。



(1)在图右侧方框中标出纬线的名称。(1分)

(2)写出图中字母所代表的地理事物的名称。(3分)

大洋:A _____ 大洋:B _____ 首都:C _____

(3)澳大利亚经济发达,是世界著名的农牧业国家,农牧业产品的生产和出口不仅在国民经济中占有重要位置,而且居世界前列。出口的农牧产品中最主要的有 _____ 和 _____。(2分)

(4)小小邮票尽显大千世界。下列邮票中的动物属于澳大利亚的是() (2分)



A

B


C

D

(5)从地理角度看,澳大利亚有许多美称或世界之最。请举出三例。(3分)

(6)说出澳大利亚人口和城市的分布特征,并简析其主要原因。(4分)

弥 封 线 内 不 要 答 题

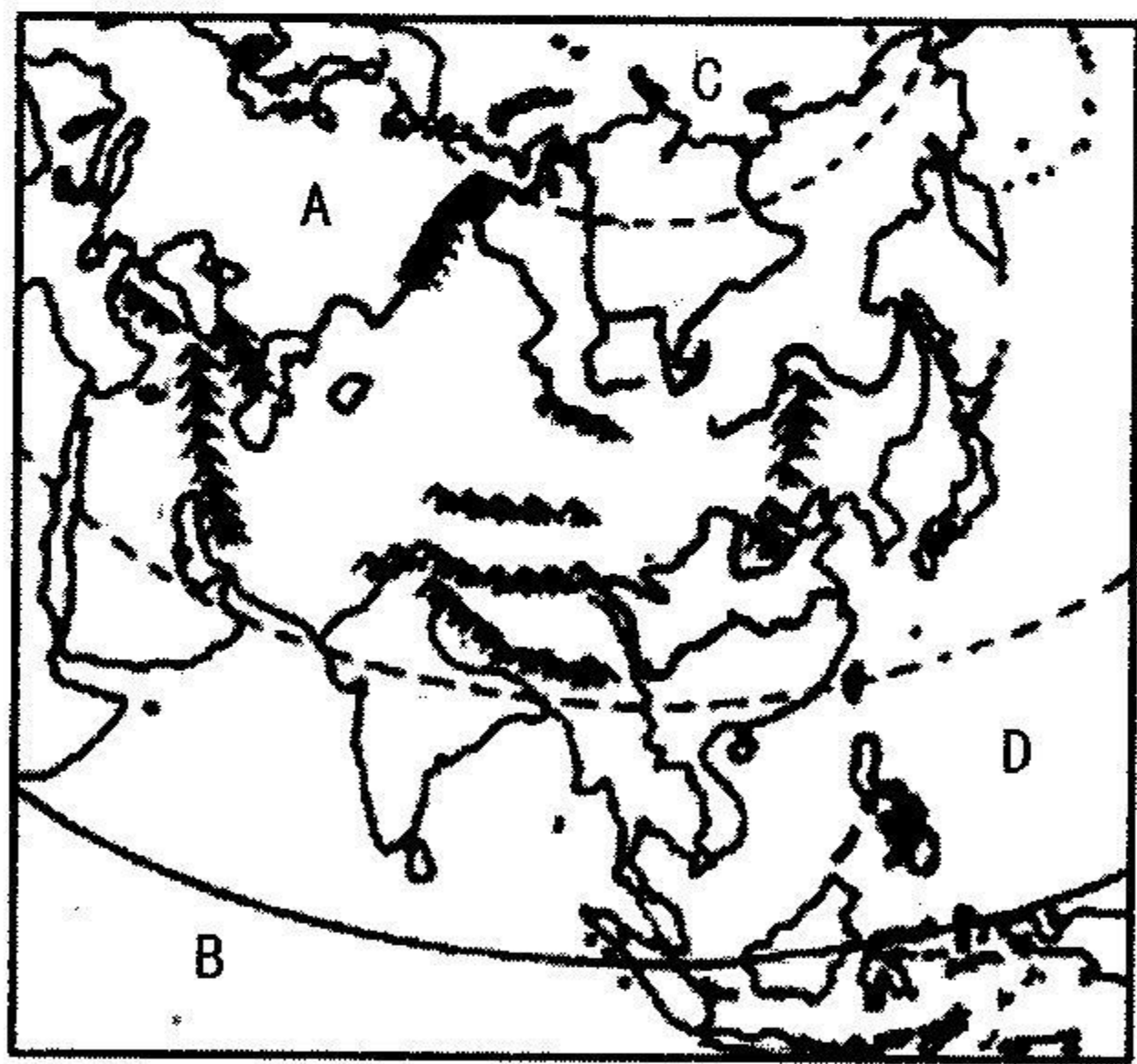




24. (15分)【实践探究】

材料一 2019年5月15日,亚洲文明对话大会在北京隆重举行。大会聚焦“亚洲文明交流互鉴与命运共同体”的主题,通过举办多项文化活动,传承弘扬亚洲各国璀璨辉煌的文明成果,搭建文明互学互鉴、共同发展的平台,增强文化自信,促进协作互信,凝聚发展共识,激发创新活力,进一步推进人类文明发展进步,构建人类命运共同体。

材料二 亚洲略图和亚洲文明对话大会标志



探究思考:

(1)在图中适当位置描出赤道。(1分)

(2)写出图中字母所代表的大洲和大洋的名称。(4分)

A _____ B _____ C _____ D _____

(3)概括亚洲的地形特征。(3分)

(4)亚洲美食节是本次大会的亮点之一,游客们可以品尝来自亚洲各国的特色风味。请举出三例特色美食。(3分)

(5)说出亚洲文明大会的主题及举办此次大会的重要意义。(4分)

附:奖励题(要自信,你能行!)(3分)(加入总分不再另计,高出试卷满分者也按100分计。)

25. 某科考营地的当地时间12月25日17:30左右,科考队员正进行露天足球赛时,有两位“不速之客”摇摇摆摆地冲入了比赛场地。右图示意比赛场景。据此完成下列要求。



(1)该科考营地可能位于 _____ 地区。(1分)

(2)此时,该地区出现的是极昼还是极夜? 并说出理由。(2分)

