



太原市 2017 年高三年级模拟试题 ()

文科综合能力测试 历史

第一部分 (必考题共 85 分)

一、选择题: 共 12 小题, 每小题 4 分, 共 48 分。在每小题给出的四个选项中, 至少有一项是符合题目要求的。

近几年中国生育政策从“单独二孩”到“全面二孩”的连续调整, 对中国未来的人口结构将产生重要影响。由于不同地区经济发展水平、计划生育政策、人口基数、生育水平、生育意愿的不同, 这种影响具有区域差异性。图 1 示意我国 2010-2030 年不同人口政策下人口总量的变化趋势。据此完成 1-3 题。




图 1

- “全面二孩”政策实施后, 我国人口自然增长率最大的时段可能出现在
 - 2016-2018年
 - 2020-2022年
 - 2024-2026年
 - 2028-2030年
- 2016-2030年, 我国
 - 社会抚养负担将减轻
 - 劳动力供给明显增加
 - 资源和社会压力加大
 - 劳动力就业压力增大
- 受“全面二孩”政策影响最小的地区可能是
 - 京津地区
 - 沪宁杭地区
 - 青藏地区
 - 冀鲁豫地区

2011年9月14日, 位于可可西里地区的卓乃湖发生溃决, 洪水经冲出的洪沟和库赛河流入库赛湖, 9月20-30日期间, 库赛湖因水量急剧增加出现湖水外溢, 并导致其下游的海丁诺尔发生类似情况, 湖水最终汇入盐湖。如果盐湖也因为来水量持续增加而外溢, 汇入楚玛尔河, 则卓乃河将成为长江的最北源。图2示意盐湖及周边地区湖泊水系。据此完成 4-6 题。

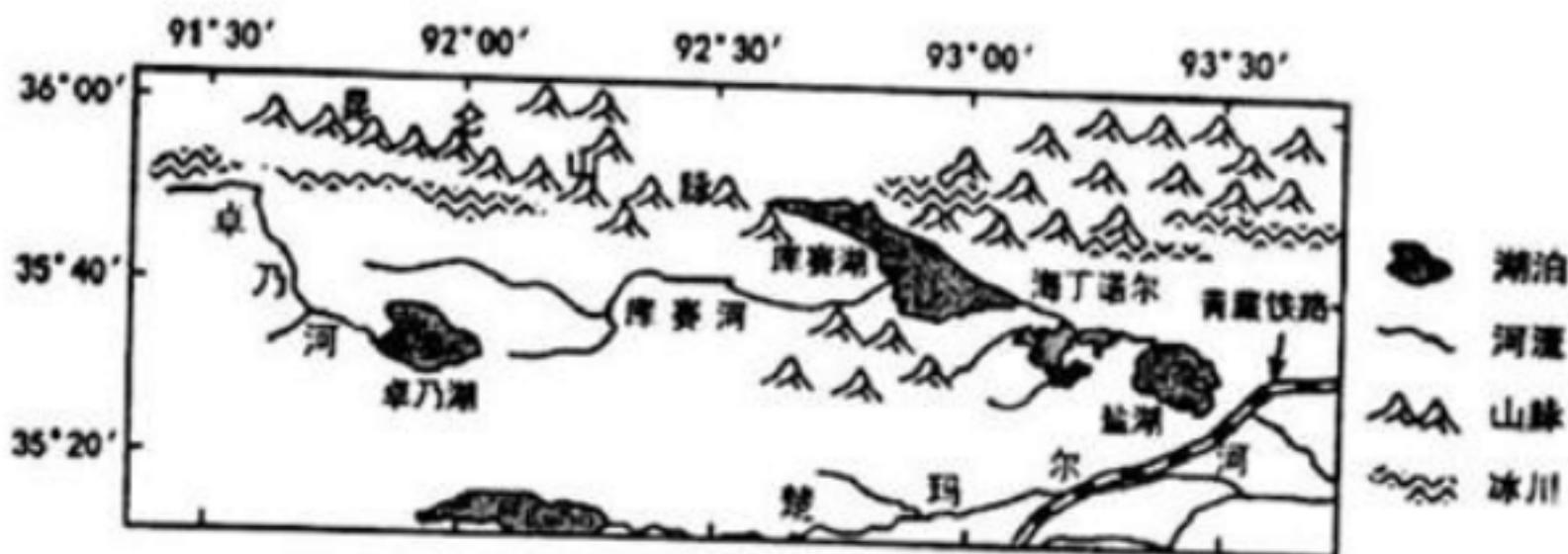


图 2

- 卓乃湖溃决之前, 图中材料述及湖泊



- A. 水生生物多样性 B. 水源相互补给 C. 含盐量均较高 D. 水位季节变化较小
- 5. 2011年9月前后, 流域面积基本没有变化的是
A. 卓乃湖 B. 库塞湖 C. 海丁诺尔 D. 盐湖
- 6. 一旦盐湖湖水外溢, 将
A. 增加该地区的水资源总量 B. 可能影响长江水体的水质
C. 利于青藏铁路路基的稳定 D. 提高周边地区土壤的肥力

发达国家在经历了 20多年金融自由化后, 金融危机重创了其过度膨胀的虚拟经济, 危机后, 发达国家纷纷出台了再工业化的政策, 掀起了再工业化的浪潮。图 3 示意再工业化的动力机制。据此完成 7-9 题。

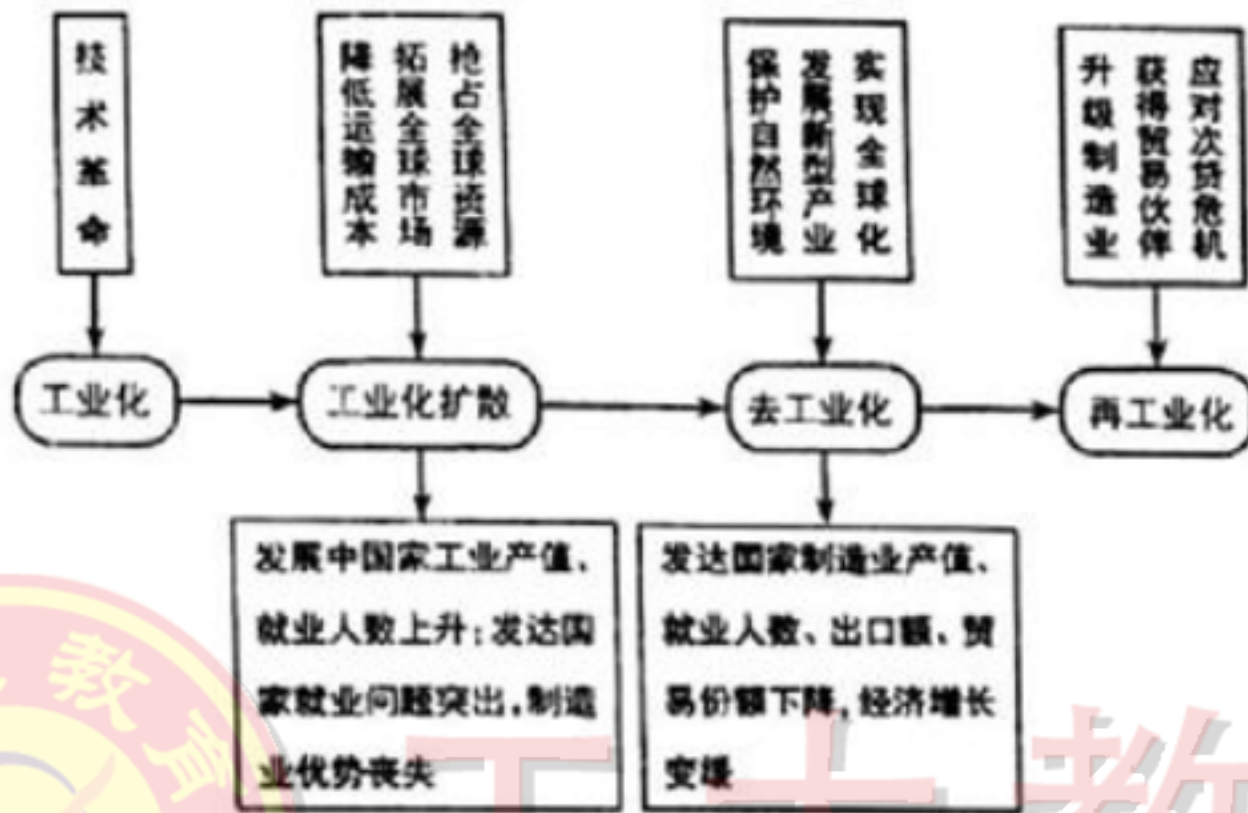


图 3

- 7. 再工业化使发达国家
A. 新兴产业比例下降 B. 资源环境问题加大
C. 传统工业部分复兴 D. 实体经济地位上升
- 8. 发达国家再工业化对我国的影响是
A. 延缓制造业升级换代进程 B. 提供大量的就业岗位
C. 承接产业转移的优势加大 D. 提高制造业的竞争力
- 9. 应对发达国家再工业化, 我国应
A. 大量承接低端产业的转移 B. 大力推进新型工业的发展
C. 从“走出去”转向“引进来” D. 逐步取缔中小型民营企业

图4示意某高原的局部地形。读图完成 10-11 题。

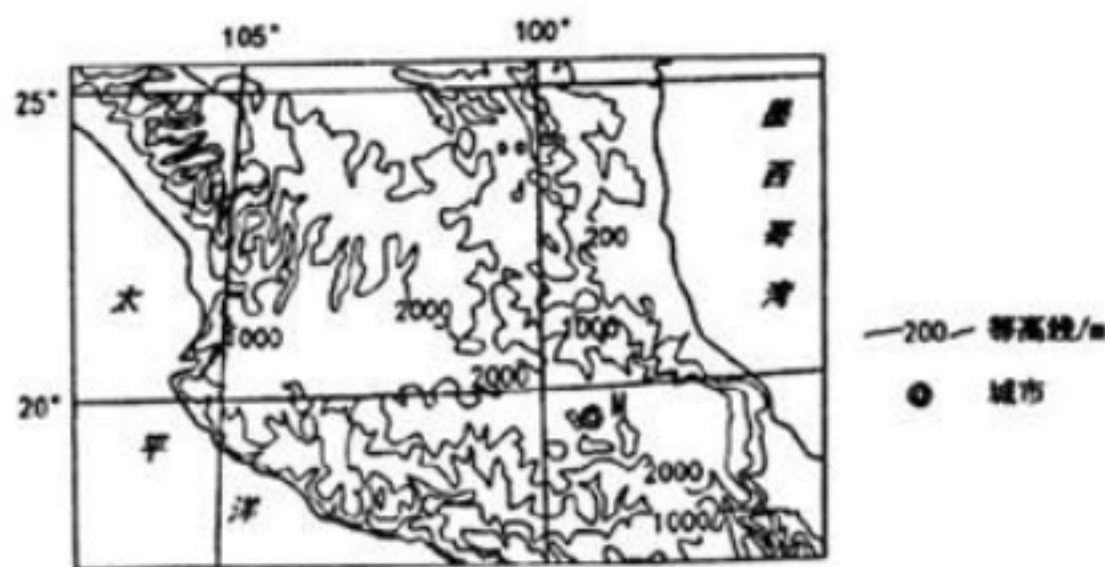


图 4

- 10. 图中 M城市



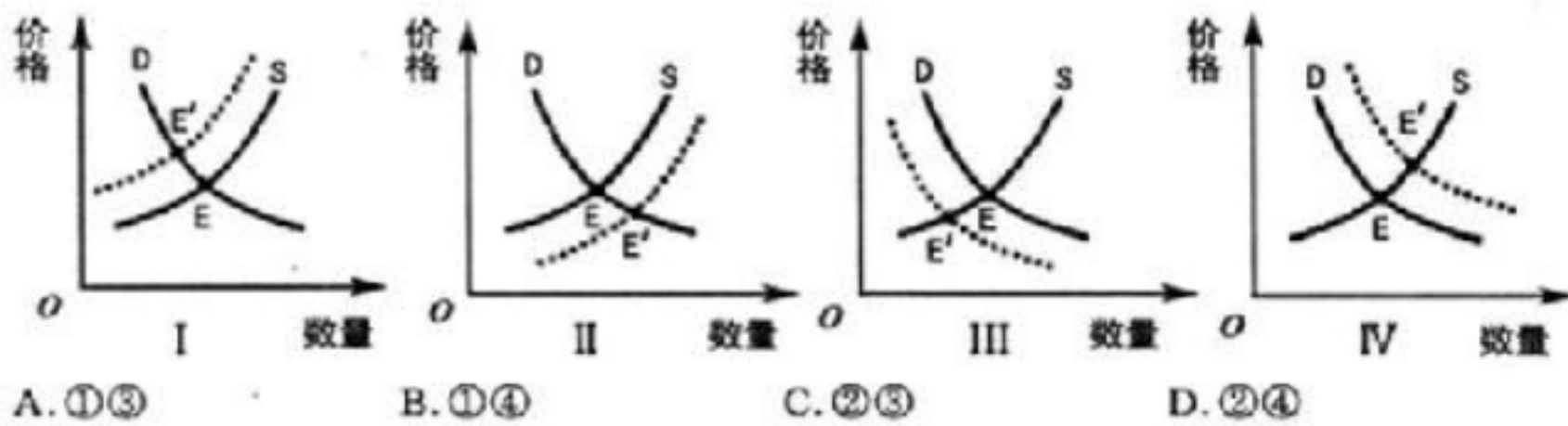
A. 全年皆夏 B. 四季分明 C. 终年湿润 D. 昼夜温差大

11. 导致 M 城市上述特征的主要因素是

A. 纬度、地形 B. 赤道低压带 C. 暖流、纬度 D. 地形、信风

12. 2016 年 12 月召开的中央经济工作会议指出，要促进房地产市场平稳健康发展。在其它条件不变的情况下，下列经济现象中能与图中 (D 为需求曲线，S 为供给曲线；实线为变化前曲线，虚线为变化后曲线；E 和 E' 点为均衡点) 蕴含经济道理相符的是

- 三、四线城市控制商品房土地供应，房地产市场变化趋势为 I
- 严格限制信贷流向投资投机性购房，房地产市场变化趋势为 II
- 一、二线城市尝试出台房地产税收，房地产市场变化趋势为 III
- 鼓励民间资本投资房地产建设领域，房地产市场变化趋势为 IV



A. ①③ B. ①④ C. ②③ D. ②④

13. 分享经济是指将社会海量、分散、闲置资源，平台化、协同化地集聚、复用，与供需匹配，从而实现经济与社会价值创新的新形态。分享经济强调两个核心理念“使用而不占有”和“不使用即浪费”，是互联网技术发展大背景下诞生的一种全新商业模式。下列选项能够体现分享经济核心理念的是

- 通过网络信息发布，出售了闲置机器设备
 - 通过网络信息沟通，享受了金融资本众筹
 - 通过网络信息沟通，实现了在线短租房屋
 - 通过网络信息比较，购买了新能源汽车
- A. B. C. D.

14. 我国经济运行面临的突出问题是结构性失衡，供给结构跟不上国内中等收入群体扩大而变化的消费结构，导致经济循环不畅。为此，必须进行供给侧结构性改革，努力实现供求关系新的动态均衡。下列有利于实现供求关系新的动态均衡的路径是

- 鼓励创新，增强活力 提高劳动生产率和全要素生产率
 - 深化行政管理体制改革 打破垄断，健全要素市场
 - 提高潜在增长率和供给质量 更好满足人民日益增长的物质文化需要
 - 深入研究市场变化 了解现实需求和潜在需求
- A. B. C. D.

15. “同线同标同质”是指出口企业在同一条生产线上，按照相同的标准生产出口和内销产品，从而使供应国内市场和供应国际市场的产品达到相同的质量水准。实施“三同”工程意在

- 全面提升中国产品的国际竞争力 降低生产成本，提高经济效益
 - 引导购买力回流，扩大内需 提高产品质量，更好满足消费升级需求
- A. B. C. D.

16. 2016 年是全国县乡两级人大换届选举年，全国有 9 亿多选民参加这次县乡人大换届选举，选举产生了 250 多万名县乡两级人大代表，并在此基础上依法产生新一届县乡两级国家机关领导人员。在我国

县乡人大作为地方国家权力机关，讨论决定本行政区域内的重大事务



人大代表要协助宪法和法律的实施真代善表 ，为人民服务
县乡两级人大换届选举充分体现了社会主义协商民主的鲜明特色
基于国情 ，我国县乡人大代表选举实行直接选举和间接选举相结合的方式

- A. B. C. D.

17.2016 年 12 月 25 日，十二届全国人大常委会第二十五次会议表决通过《关于在北京市、山西省、浙江省开展国家监察体制改革试点工作的决定》 。将试点地区人民政府的监察厅（局）、预防腐败局及人民检察院查处贪污贿赂、 失职渎职以及预防职务犯罪等部门的相关职能整合至监察委员会 ，试点地区监察委员会由本级人民代表大会产生 ，对其负责 ，受其监督。设立监察委员会

旨在加强行政系统内部的监督 监督对象是行使公权力的全体公职人员
有利于建立起集中统一、权威高效的监察体系 是有效制约和监督权力的关键

- A. B. C. D.

18. 国家主席习近平在 2017 年新年贺词中指出， 中国人民不仅希望自己过得好 ，也希望各国人民过得好。真诚希望国际社会携起手来 ，秉持人类命运共同体的理念 ，把我们这个星球建设得更加和平、更加繁荣。这体现了

我国在谋求本国发展中携手各国共同发展 中国致力于构建以共同发展为基础的国际新秩序 世界多极化趋势深入发展 我国外交政策的宗旨是维护世界和平、促进共同发展

- A. B. C. D.

19.2016 年 4 月 12 日，在伦敦总部举行的吉尼斯世界纪录仪式上 ，正式确认《新华字典》是世界上“ 最受欢迎的字典 ”和“ 最畅销的书 ”。截至 2015 年 7 月 28 日，《新华字典》在全球发行量达 5.67 亿本，它是全球各国和地区汉语学习者的必备工具书。这在一定意义上反映了
中国汉字源远流长、 独领风骚 汉语文化的影响力不断提升 世界各国对中华文化的认同感和归属感增强 《新华字典》在汉语学习中扮演着重要角色


- A. B. C. D.

20. 由香港中学生设计的实验项目“ 太空养蚕 ”随神州十一号飞船进入太空， 在天宫二号空间实验室进行实验， 目的是想验证在失重情况下蚕吐出的丝会比较粗且韧性较强， 可应用于不同领域，包括制作航天服。这说明

意识活动越来越具有直接现实性 实践是客体通过中介系统作用主体的过程 科学实验活动具有目的性、计划性 通过实践才能检验认识的真理性的

- A. B. C. D.

21. 右面漫画《再摔一跤》启示我们



《再摔一跤》

- 懂得矛盾存在的普遍性和随意性 善于分析和把握事物变化的条件
- 懂得事物发展的道路充满了曲折 注重研究新情况，敢于寻找新思路



- A. B.
- C. D.

22. 2014 年网约车开始在中国城市出现后，新老业态局部冲突时有发生。2016 年国家出台和实施了《网络预约出租汽车经营服务管理暂行办法》，从国家法规层面首次明确了网约车的合法地位并规范了管理，网约车的合法化为交通运力加入新的血液。网约车合法化的辩证法依据是

- 从规范交通运营的愿望出发，创建了事物间新的具体联系
- 新老业态之间既对立又统一，推动着事物的变化发展
- 新事物符合事物发展规律，具有强大生命力
- 外因是事物发展的重要条件，决定事物的顺利发展

- A. B. C. D.

23. 鲁藜的《泥土》：老是把自己当作珍珠 / 就时时有被埋没的痛苦 / 把自己当作泥土吧 / 让人把你踩成一条道路。黄淮的《泥土》：老是把自己当作泥土 / 就时时有被践踏的痛苦 / 还是把自己当成珍珠吧 / 便时时有被发现的幸福。这两首诗歌说明

- A. 是痛苦还是幸福会因人看问题的角度不同而发生转化
- B. 人的价值判断和选择具有主体差异性，没有客观评价标准
- C. 评价痛苦还是幸福关键在于自我价值的实现程度
- D. 社会历史条件变化导致不同诗人价值判断和选择的变化

24. 中国古代统治者宣扬“敬天、法祖、忠君、保民”，汉朝以后以“孝治天下”逐渐成为贯彻两千年帝制社会的治国纲领。这表明

- A. 儒学正统坚不可摧 B. 政治与伦理相结合
- C. 君主皆为道德楷模 D. 宗法制度得以延续

25. 宋代是科举制度发展完善的重要历史阶段。皇帝亲自提点试卷、诏问举子的“殿试”成为常制，并规定禁止考生及第后对考官自称门生或称考官恩师。这些做法

- A. 促使人才选拔更加公平 B. 意在强化君主集权统治
- C. 推动了文人政治的形成 D. 打破了人情关系的羁绊

26. 明清时期，漕运是国家重要经济命脉。明初规定岁以湖广、江、浙等八省本色漕粮运抵京畿充裕国课。明中叶后，逐步改行漕粮折银。这一变化有助于

- A. 维护小农经济稳定 B. 减轻百姓赋税负担
- C. 促进货币经济发展 D. 强化对地方的控制

27. 图 5 是 1843? 1852 年英国制造品输华值（年平均数）（单位：镑）。这反映了当时中国

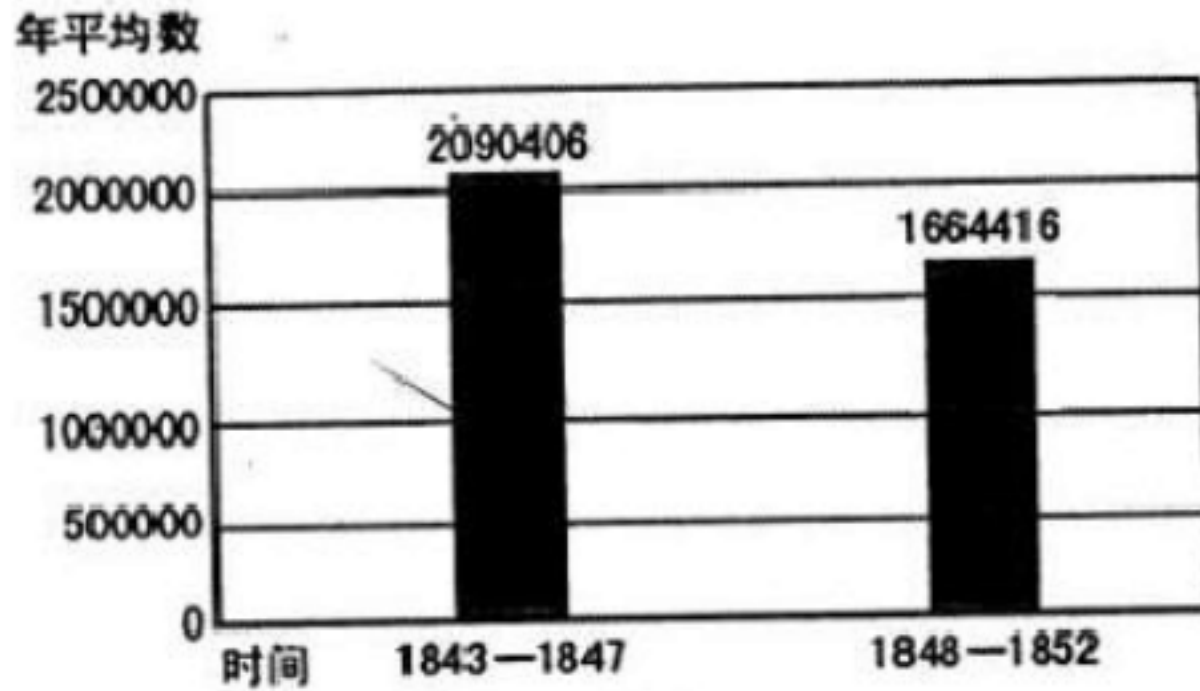


图5

- A. 对外贸易出现逆差 B. 民族工业与外商争利
 - C. 自然经济的顽强性 D. 洋务企业发展迅猛
28. 1902年，蔡元培在上海创办爱国女校，学校开设有炸药制造技术等相关课程，并认为女子适合从事暗杀活动。这反映出当时
- A. 政治风潮影响新式教育 B. 人才培养注重职业技能
 - C. 女性社会地位明显提高 D. 办学思想体现兼容并蓄
29. (南京临时政府)临时参议院议决以五色旗为中华民国正式国旗，并请大总统孙中山颁布各省执行。但孙对此表示异议，复函据理力争，且以临时大总统名义提请参议院对这一议决加以复议。临时参议院立即对此进行重新讨论，最终正式决定五色旗为中华民国国旗。这一过程表明
- A. 五族共和思想成为共识 B. 南京临时政府统而不治
 - C. 共和原则得以初步实践 D. 民主观念日益深入人心
30. “那里的纪年方式混乱不堪：公元、民国、昭和、大同、康德；那里有很多人群共生共荣：本地人、逃荒去的、开垦去的、侵略去的、做梦去的。”文中的“那里”应是
- A. 1840—1911年的中国上海 B. 1895—1945年的中国台湾
 - C. 1898—1997年的中国香港 D. 1932—1945年的中国东北
31. 1960年底，中央指出“三级所有，队为基础，是现阶段人民公社的根本制度”，并宣布恢复农村集市。这项政策
- A. 改变了土地所有制 B. 根除了“左”的错误
 - C. 旨在加快工业化进程 D. 意在纠正“一大二公”
32. 苏格拉底从来不向听他讲学的人索取金钱报酬，他接待了许多希望听他讲学的人，其中有本国公众，也有外国人。苏格拉底认为，获取报酬无异于迫使自己当奴隶。这反映了他
- A. 提倡有教无类 B. 推崇“知识即美德”
 - C. 崇尚意志自由 D. 反对狭隘民主
33. 法兰西第三共和国宪法增加了总统解散众议院必须获得参议院同意的规定，而议会对总统的不信任权却没有类似的明确限制。这些含糊不清的规定从侧面反映了
- A. 行政权不能制约立法权 B. 法国民主政治的虚伪性
 - C. 共和制是政治妥协的产物 D. 总统与议会斗争的失败
34. 据记载，从1926年起，苏联政府在保持农产品销售价格基本不变的情况下，大幅度提高了工业品的零售价格。这反映了
- A. 斯大林模式取得巨大成功 B. 工农业经济协调发展得以实现
 - C. 农民生产积极性持续高涨 D. 工业化以牺牲农民利益为代价



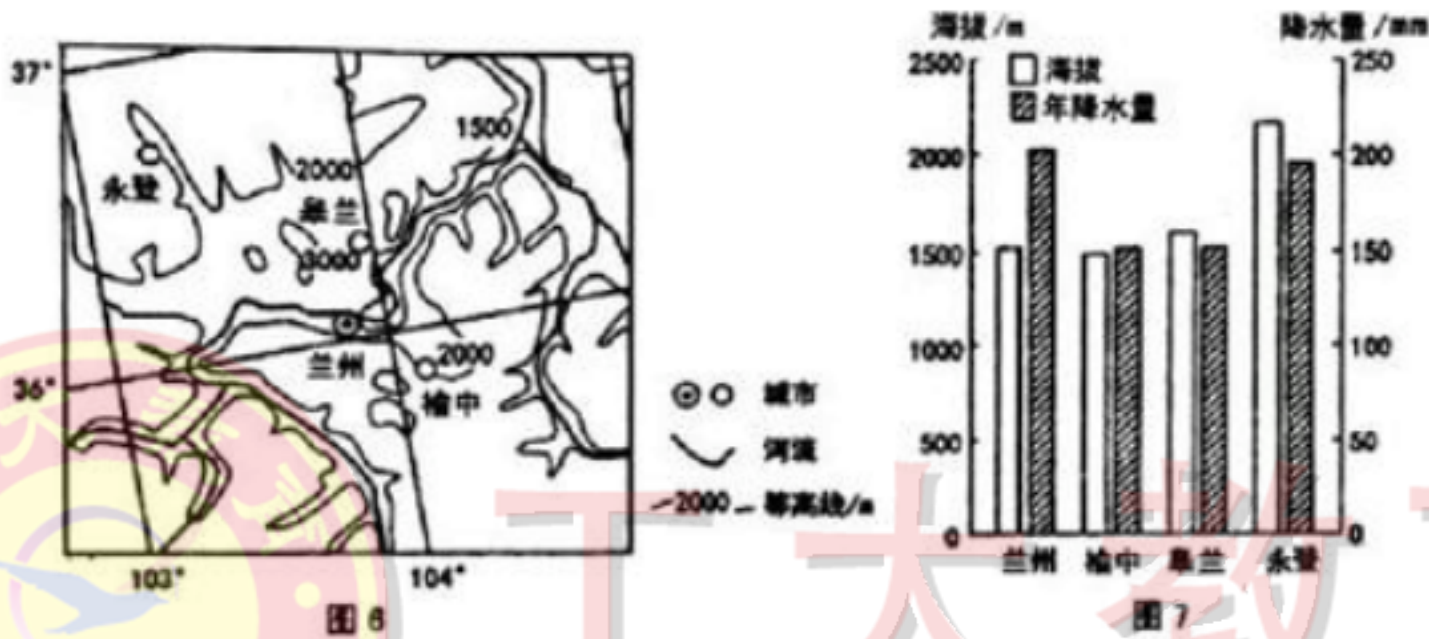
35.1947 年,接受马歇尔计划的国家做出了一系列承诺, 包括放松价格管制、 平衡政府预算、 保持金融稳定、保持汇率在合理水平、降低和消除配额和其他贸易管制。这些承诺

- A. 加速了两极格局最终形成
- B. 有助于市场化机制的运转
- C. 推动了西欧国家经济腾飞
- D. 便于美国控制整个欧洲

二、非选择题:共 2 小题,共 37 分。

36. (24分) 阅读图文材料,完成下列要求。

高原夏菜是指夏季在气候较干凉的高原地区生长的蔬菜。 其适宜生长的温度为 17-25 。
 目前,兰州市是我国最重要的高原夏菜生产基地和 “北菜南运”的大型集散地之一, 其下辖各县区菜农将蔬菜依山势阶梯状种植在海拔 1500-3000 米的山坡上,种植面积近百万亩。 5-10 月,兰州能够源源不断的向上海、 杭州、广州等南方市场供应 200 多个品种的有机蔬菜。 同时通过南方客商的深加工,高原夏菜还远销至新加坡、马来西亚等国家。图 6、图 7 分别示意高原夏菜主要种植区的分布、海拔与降水状况。

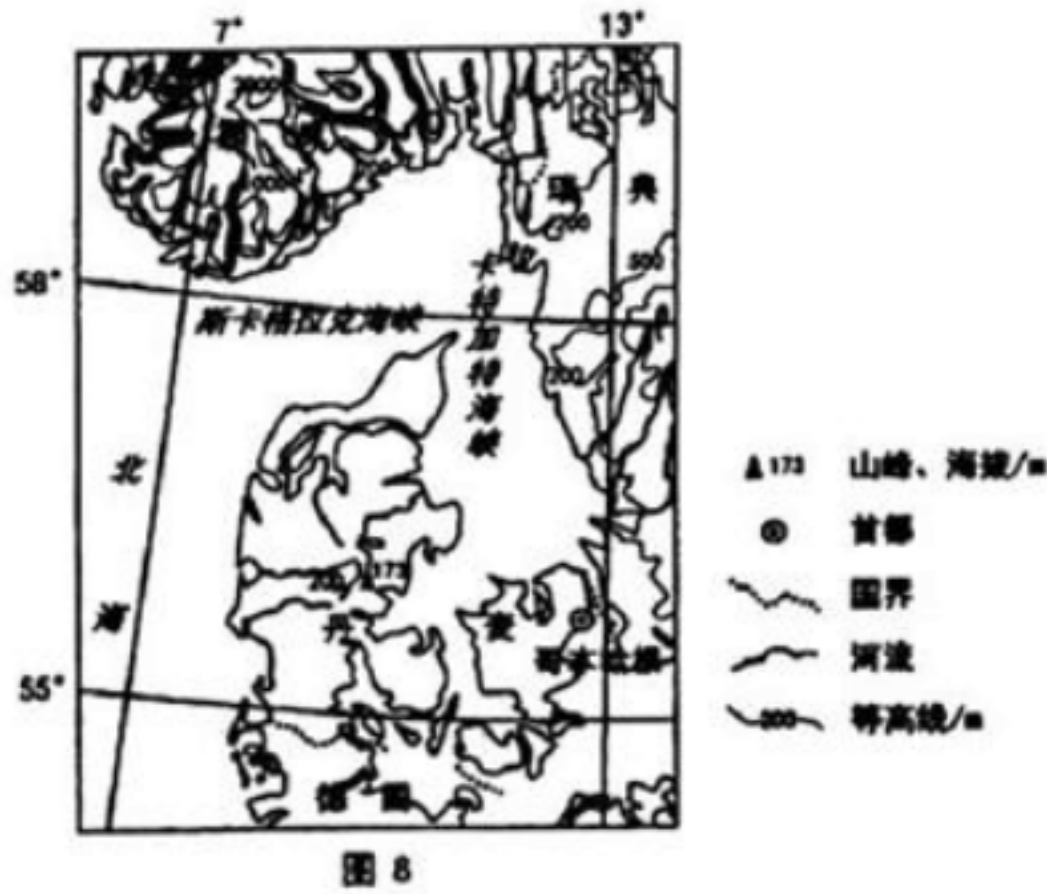


- (1) 与长江三角洲相比,说明兰州有利于高原夏菜生长的气候条件。(6分)
- (2) 试分析兰州在 1500-3000 米的山坡上阶梯状种植高原夏菜的原因。(8分)
- (3) 说明兰州高原夏菜能够占领南方市场的主要原因。(4分)
- (4) 请为兰州高原夏菜的进一步发展提出合理建议。(6分)

37. (22分) 阅读图文材料,完成下列要求。

丹麦是一个致力于摆脱石油依赖,以清洁能源和可再生能源为主要生命线的国家,其人均风电装机容量长期居世界第一位, 目前风电满足全国电力需求的 42%。 丹麦风电的主要备用电源在周边国家,与瑞典、挪威、德国之间电网互联,能根据风电变化,调度电力进出口,“削峰补谷”平衡电力供需。丹麦历届政府对风电都给予大力支持,如为风电设备安装、风电生产提供财政补贴;强制风电上网与电力公司购买;电力消费者必须购买固定额度的绿色能源等。图 8 示意丹麦地理位置。

风电弃用主要是指由于电网接纳能力不足、风电不稳定等原因导致的风机停止发电的现象。 2016年前三季度,我国风力弃风量达 394.7 亿度,全年平均弃风率为 19%,尤其是西北风电规模化开发地区弃风现象严重。



- (1) 与水能、太阳能相比，分析丹麦选择大力发展风电的原因。(12分)
- (2) 说明丹麦风电要利用备用电源进行“削峰补谷”的原因。(4分)
- (3) 探讨解决我国西北风电规模化开发地区弃风问题的途径。(6分)

38.(26 分) 阅读材料，完成下列问题。

产权制度是社会主义市场经济的基石，保护产权是坚持社会主义基本经济制度的必然要求。

材料一 加强产权保护，根本之策是全面推进依法治国，要在事关产权保护的立法、执法、司法、守法等各方面各环节体现法治理念。加快推进民法典编纂工作，完善物权、合同、知识产权相关法律制度，清理有违公平的法律法规条款，将平等保护作为规范财产关系的基本原则，完善政府守信践诺机制，大力推进法治政府和政务诚信建设，地方各级政府及有关部门要严格兑现向社会及行政相对人依法作出的政策承诺；严格规范涉案财产处置的法律程序，进一步细化涉嫌违法的企业和人员财产处置规则，依法慎重决定是否采取相关强制措施；营造全社会重视和支持产权保护的良好环境，大力宣传党和国家平等保护各种所有制经济产权的方政策和法律法规。

- (1) 结合材料一，运用政治生活知识阐述我国在产权保护中是如何贯彻依法治国理念的。(12分)

材料二 改革开放以来，通过大力推进产权制度改革，我国基本形成了现代产权制度和产权保护法律框架，但也要看到，我国产权保护仍然存在一些薄弱环节和问题：国有产权由于所有者和代理人关系不够清晰，存在内部人控制、关联交易等导致国有资产流失的问题；集体经济组织出现内部少数人使占、非法处置集体资产，外部资本侵吞、非法控制集体资产现象；利用公权力侵害私有产权、违法查封扣押冻结民营企业财产等现象时有发生。解决这些问题，必须加快完善产权保护制度，依法有效保护各种所有制经济组织和公民财产权，增强人民群众财产财富安全感，增强各类经济主体创新创业动力，维护社会公平正义，保持经济社会持续健康发展和国家长治久安。

- (2) 结合材料二和所学经济生活知识，分析加强产权保护应如何完善基本经济制度从而推动经济持续健康发展。(14分)



39.(26 分) 阅读材料，完成下列问题。

2016年是红军长征胜利 80周年，全国各地开展了多种形式的纪念活动。

2016年10月21日，中共中央纪念“红军长征胜利 80周年”大会在人民大会堂隆重举行。习近平总书记发表重要讲话：80年前，面对生死存亡的严峻考验，我们党领导红军，以非凡的智慧和无所畏惧的英雄气概，战胜千难万险，付出巨大牺牲，胜利完成震撼世界的长征。长征的胜利，找到了中国革命事业胜利前进新的出发点。从长征的终点出发，中国共产党领导中国人民雇佣了中国革命波澜壮阔的新画卷。历史是不断向前的，每一代人有每一代人的长征路。今天，我们这一代人的长征，就是要实现“两个一百年”奋斗目标，实现中华民族伟大复兴的中国梦。新的长征路上，我们还有许多“雪山”、“草地”需要跨越，还有许多“娄山关”、“腊子口”需要征服，长征永远在路上。

“重走长征路”是纪念活动中最火热的一种，有中央人民广播电台联合多家媒体共同组织的大型联合采访活动“不忘初心再长征”，有大学师生开展的“重走长征路”暑期社会实践等。这些活动挖掘 80年前长征的历史故事，到达红军长征途中战役发生地，旨在通过“重走长征路”号召人们进一步弘扬长征精神，坚定走中国特色社会主义道路的理想信念。

(1) 运用量变与质变的辩证关系原理并结合材料，分析说明“每一代人有每一代人的长征路，长征永远在路上”的正确性。(10分)

(2) 结合材料和文化生活知识，探究“不忘初心，重走长征路”等活动是如何弘扬长征精神的。(12分)

(3) 弘扬伟大的长征精神，离不开每个人的参与。请你为弘扬长征精神拟两条宣传语，并简要说明哲学依据。(4分)

40. (25 分) 阅读材料，完成下列要求。

材料一 在中西方传统休闲文化中，中国人惯于以卧游、神游来取代激烈的运动。即便是外出旅游，也不过是依傍“杨柳岸晓风残月”与大自然共享一份安闲之乐，与由方人奉行“生命在于运动”不同，中国许多理学和道学大师们都主张“生命在于静止”。传统休闲活动也大多是练拳、练气功、琴棋书画、花鸟鱼虫、作诗、登高等个人项目；而西方则除拳击、击剑、摔跤等个人争雄的项目外，更多的是结伴成伙的比赛足球、篮球、排球等集体项目。

——摘编自李田、黄安民《中西方传统休闲文化及其价值观的对比分析》

材料二 工业革命后，人们的日常休闲逐渐远离宗教生活，礼拜日的宗教活动逐渐被全新的周末度假旅游代替；日常阅读的书籍也由原来的以宗教书籍为首选变成了以阅读报纸、通俗小说等为主；与原来到教堂做祷告相比，到酒吧喝酒、观看体育比赛，从事各种体育活动更加吸引人。在体育休闲活动中各种斗兽运动逐渐被禁止；为足球、拳击格斗等运动制订了比较完善的比赛规则，且在娱乐场所加强了立法和规范，原来只有贵族才能享受的休闲生活也走进了普通民众的生活。上流社会和经济实力雄厚者，总是先参与到新的休闲方式中；中产阶级则比较喜欢选择逛公园、看喜剧表演、到音乐厅欣赏音乐和爬山、远足等户外休闲娱乐方式。到 19 世纪，英国人的休闲生活已经与整个商业经济紧密地联系在一起。

——摘编自赵虹《工业化与英国休闲生活的转型》等

(1) 根据材料一并结合所学知识，分别指出中西方传统休闲文化的特点并分析其成因。(12分)

(2) 根据材料二并结合所学知识，评析工业革命前后英国休闲生活的变化。(13 分)



41. (12分) 阅读材料, 完成下列要求。

材料《诗》云: 乐只君子, 民之父母。民之所好好之, 民之所恶恶之, 此之谓民之父母。

——《礼记·大学》

《汉书·循吏传》载, 西汉元帝时, 南阳郡太守召信臣, “其治视民如子”, 劝民农桑, 去末归本, 为政勤勉有计谋, “好为民兴利”, 尽力使百姓富起来。他亲自指导农耕, 常出入于田间, 住宿在民家, 很少有安闲的时候。 “百姓归之, 户口增倍, 盗贼狱讼衰止”。 “吏民亲爱信臣, 尊他为“召父”。《后汉书·杜诗传》载, 杜诗, 担任郡功曹(官名)时, 爱民如子, 事事替百姓作主, 由是全郡百姓家家粮丰衣足。 百姓拿他与以前的召信臣相比, 说“前有召父, 后有杜母”。南阳人为纪念这两位太守, 修建了一座“二信守祠”, 俗称“父母祠”。 “父母官”一词由此而来, 成为百姓对廉洁奉公、关怀百姓、造福一方的地方的敬称。

——据《汉书》《后汉书》整理

解读材料并结合中国古代史的相关知识, 谈谈你对材料所述历史现象的认识。

(要求: 准确概括历史现象, 阐述须有史实依据。)

第二部分(选考题共 10分)

请考生从 2道地理选考题、三道历史选考题中每科选择一题作答。如果多做, 则每科按所做的第一题计分。

42. 【地理——选修 3: 旅游地理】(10分)

“红层荒漠”是指岩性特殊的红层软岩分布区由于人为干扰 (如乱砍滥伐等), 原有的生态结构遭到破坏, 受外力侵蚀而形成的基岩或其风化壳裸露的劣地景观。红层荒漠在我国粤、赣、湘等南方湿润地区有较多的分布, 这些地区往往经济欠发达。旅游开发是国外对“劣地”进行重要的开发利用方向。图 9是我国南方红层荒漠景观。



图 9

分析对我国南方红层荒漠进行旅游开发的可行性。

43. (14分) 【地理——选修 6: 环境保护】(10分)

萤火虫因对土壤、水、空气质量都有近乎苛刻的要求而成为环境质量的重要指示物种。其处于生物链“金字塔”较地层, 捕食对植物有危害的小生物(如蜗牛等), 同时又会被高级动物捕食。它们的种群减少和灭绝会产生连锁反应, 使“金字塔”松动, 甚至对底层生物造成影响。我国有 200 多种萤火虫已有 20 多种难觅踪影。近年来, 我国多数一、二线城市纷纷举办“萤火虫主题公园”等活动, 其萤火虫由野外捕捉或外地购买而来。萤火虫在异地放飞后, 会大量死亡。图 10 示意活体萤火虫网上交易到货时间及死亡率。

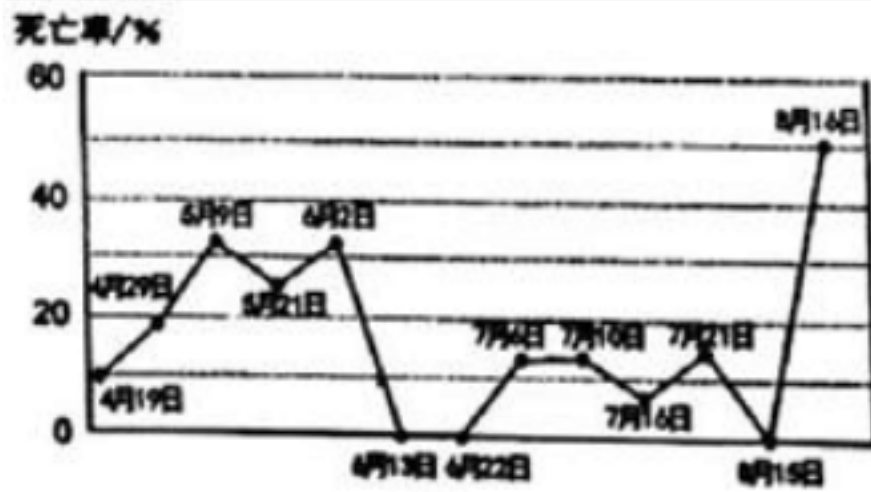


图 10

分析我国城市举办“萤火虫主题公园”的不合理性。

44. 【历史——选修一：历史上重大改革回眸】（ 15 分）

材料清康熙雍正时期，国力强盛，中央政府已经有足够的力量加强对少数民族地区的统治。雍正四年（1726年），云贵总督鄂尔泰建议取消土司世袭制度，设立府、厅、州、县，派遣有一定任期的流官进行管理。上奏曰：“苦不及此清理，约定规程，即使斃几土官，杀几苗首，亦不过急则治其标，本病未除，恐终难宁帖。，是其征之私囊者不贪百倍教十倍，而输之仓库者不及一二，百不及二三。由此类推，又何可盛计。”

雍正帝对其甚为赞赏。令其悉心办理。在废除土司世袭制度时，对土司本人，根据他们的态度给以不同的处理。对自动交印者，酌加赏赐，或予世职，或给现任武职。对抗拒者加以惩处，没收财产，并将其迁徙到内地省份，另给田房安排生活。在设立府县的同时，添设军事机构。在改土归流地区清查户口，丈量土地，征收赋税，建城池，设学校。改土归流除了土司制度，减少了叛乱因素，加保了政府对边疆的统治，有利于少数民族地区社会经济的发展。

——摘编自李世愉《清代土司制度论考》等

- (1) 根据材料，概括指出雍正时期“改土归流”的原因。（ 6 分）
- (2) 根据材料并结合所学知识，说明清朝“改土归流”的主要特点并简析其历史作用。（ 9 分）

45. 【历史——选修 3：20 世纪的战争与和平】（ 15 分）

材料一 《非战公约》，1928年8月27日由比、捷、法、德、日、意、波（兰）、英、澳、加、印（度）、爱（尔兰）、新（西兰）、美、南非等 15 个国家和地区的代表在巴黎签订，1929年7月25日生效。由序言和正文 3 条组成。第一条，缔约各国郑重声明：谴责用战争解决国际争端，并在它们的相互关系中来废弃以战争作为实行国家政策的工具。第二条规定：缔约国之间的一切争端，不论性质和起因如何，“只能用和平方法加以处理或解决”。第三条是规定程序问题。但对当时为世人所瞩目的裁军问题丝毫没有涉及，对于破坏公约的国家也没有制定制裁的措施。且各帝国主义列强还有各自的解释和保留条件，如美国宣称，每个国家“有权决定情况是否需要诉诸战争以实行自卫”。

——摘编自高秋芬《评析〈非战公约〉》

材料二 美国参议员约翰逊在参议院就《非战公约》进行辩论时，说它是“无舵之船，无屋宇之衙衢，无字之书，无剑之鞘，无指针之钟表，无花朵之花冠，无菜肴之餐桌”。

——王明中《评凯洛格非战公约》

- (1) 根据材料一及所学知识，概括《非战公约》所体现的原则及其积极意义。（ 8 分）
- (2) 根据材料一并结合所学知识，评析材料二中美国参议员约翰逊对《非战公约》的评价。



(7 分)

46. 【历史——选修 4：中外历史人物评说】(15 分)

材料

浩荡离愁白日斜，吟鞭东指即天涯。落红不是无情物，化作春泥更护花。

九州生气恃风雷，万马齐喑究可哀。我劝天公重抖擞，不拘一格降人才。

——龚自珍《己亥杂诗》二首(1839 年)

龚自珍，清代著名思想家、文学家、经学家。出身仕宦，幼读诗书，获进士官至内阁中书、礼部主事。著有《明良论》、《西域置行省议》等见识深到的时论文章。一身才华横溢、多情风流，个性鲜明，曾请与林则徐同赴广东禁烟，被林婉言谢绝。因其屡屡针砭时弊，触动时忌，遭受权贵打压，被迫于道光十九年(1839 年)春辞官南归，1841年暴卒于丹阳书院(死因不明)，享年 49 岁。留著文章 300 余篇，诗词近 800 首。辑于《定庵文集》。其诗文主张“更法”、“改图”，洋溢爱国热情，被柳亚子誉为“三百年来第一流”。

——陈铭《龚自珍评传》

(1) 根据材料并结合所学知识，概括指出龚自珍《己亥杂诗》的创作背景。(6 分)

(2) 根据材料并结合所学知识，对龚自珍的人生境遇进行简要评析。(9 分)

政治答案

12、A 13、B 14、C 15、D
16、A 17、C 18、B 19、C 20、A
21、D 22、C 23、A

38、答案：(1) 科学立法，完善保护产权的法律体系，使产权保护有法可依。(3分) 严格执法，政府依法行政，完善守信践诺机制，严格兑现政策承诺，大力推进法治政府建设。

(3分) 公正司法，让人民群众在每起案件办理中感受社会公平和正义。(3分) 全民守法，使平等保护、全面保护、依法保护观念深入人心，营造保护产权的法治环境。(3分)

答案：(2) 深化国有企业和国有资产监督管理体制改革，防止国有资产流失，发挥国有经济的主导作用，控制经济运行的整体态势。(4分) 完善集体产权保护制度，增强集体经济发展活力，促进共同富裕。(4分) 完善个人财产保护制度，发挥非公有制经济促进经济增长、增加就业等方面的积极作用。(3分) 完善社会主义市场经济体制，保证各种所有制经济依法平等使用生产要素，公开公平参与市场竞争，推动经济持续健康发展。(3分)

39、答案：(1) 量变是质变的必要准备，质变是量变达到一定程度的必然结果。长征是量变与质变的统一。(3分)80 年前的长征历经千难万险，取得最后胜利；从长征终点出发，开始中国革命的新长征，缔造了新中国；实现中国梦需要我们这一代人的不断努力，通过量变实现质变。(4分) 事物在新质的基础上开始新的量变，量变和质变相互交替，推动事物发展。每一代人有每一代人的长征路，长征永无止境，永远在路上。(3分)

答案：(2) 精神活动离不开物质活动，通过重走长征路，感悟长征精神。(4分) 大众传媒是文化传播的主要手段，通过大型联合采访挖掘长征故事，传播长征精神。(4分) 弘扬长征精神需要立足社会实践，发挥人民群众的主体作用，通过开展丰富多彩的活动，增强对长征精神的认同感，传承长征精神。(4分)

答案：(3) 答案示例：

标语 1: 传承长征精神，坚定理想信念。哲学依据：发挥意识的能动作用。(2分)



标语 2: 弘扬长征精神, 共创美好家园。哲学依据 : 人民群众是历史的创造者。 (2 分)

历史参考答案

24、 B 25、 B 26、 C 27、 C 28、 A 29、 C 30、 D
31、 D 32、 C 33、 C 34、 D 35、 D

40、【解析】

(1) 特点: 中国: 注重内心的宁静, 具有静态特征; 大多为个人项目。 (3 分)
西方: 注重个性张扬, 具有动态特征; 以集体活动为主。 (3 分)
原因: 中国: 农耕经济的封闭性、稳定性, 崇尚平静; 以儒释道为哲学基础。 (3 分)
西方: 工商业经济发达, 推崇竞争和冒险精神; 志根于人文主义传统思想。 (3 分)

(2) 变化: 逐渐世俗化; 形式更为多样、内容更为丰富; 逐渐理性化、文明化; 逐渐以立法规范; 逐渐普及化和层次化; 日益商业化。 (每点 2 分, 任意两点即可)

41、【解析】

示例: 现象: 古代对官民关系的定位是官员爱民如子, 民视官为父母官。 (4 分)
认识: 受中国传统民本思想影响, 出于发展农业生产、保证政府财政收入和维护统治的需要, 官员往往爱民如子; 而汉代“罢黜百家, 独尊儒术”以来, 政治与伦理相结合, 民把廉洁奉公、关怀百姓、造福一方的地方官员称之为父母官, 表达了自己对官员的肯定和爱戴。 (4 分) 这种现象的出现, 一方面有利于缓和官民矛盾, 稳定社会秩序, 促进农业生产的发展, 保证政府财政收入; 但另一方面, 这种界定也强化了官民的不平等性, 不利于中国向近代社会的转型。 (4 分)

44、【解析】

(1) 打击地方割据势力, 加强中央集权; 增加财政税收; 国力强盛。
(2) 特点: 对反抗与归顺人员区别对待; 政治管理与军事威慑相结合; 政治改革与经济文化建设并举。 (4 分, 任意两点即可) 作用: 打击了土司割据势力, 加强了中央集权; 打破了西南地区的封闭状态, 促进了当地经济及文化教育事业的发展; 促进民族融合、边疆稳定, 有利于统一多民族国家的巩固和发展。 (5 分)

45、【解析】

(1) 原则: 放弃战争作为国家政策; 和平解决国家争端。 (4 分)
积极意义: 限制了国家的战争权; 在国家法上奠定了“侵略战争是国际犯罪”的法律基础; 成为二战后国际军事法庭审判德日战犯的重要法律依据。 (4 分, 任意两点)
(2) 约翰逊的评价有失偏颇。 (2 分) 一方面, 它确实看到了《非战公约》的局限: 如没有涉及世人瞩目的裁军问题, 对废弃战争、维护和平没有规定明确的责任, 也未制定实施公约的办法和制裁违约国的措施等; 但他忽略了《非战公约》在限制国家战争权, 确立和平解决国际争端等方面发挥的积极作用。 (5 分)

46、【解析】

(1) 鸦片战争前夕, 清王朝闭关落后, 危机四伏; 实行文化专制, 束缚人才; 作者仕途遭遇挫败, 胸怀愤懑之情。 (6 分)
(2) 人生境遇: 怀才不遇, 境遇悲凉。 (2 分)
评析: 龚自珍的人生境遇一方面受限于时代环境; 也是因为其自身锋芒毕露的突出个性; 难容于传统士大夫中庸内敛的处事观, 成为传统文化的牺牲品。 (7 分)

地理答案



题号	1	2	3	4	5	6	7	8	9	10	11
答案	A	C	C	C	A	B	D	A	B	D	A

36、(1)【答案】：兰州纬度较高，海拔高，夏季气温较低；(2分) 深居内陆，降水量较少；(2分) 光照充足，昼夜温差大；(2分) 干燥凉爽的气候条件，是蔬菜少有病虫害。

(2)【答案】：(山地)垂直地带性明显，(阶梯种植)利于充分利用土地和气候资源；(2分) 不同海拔高度可以种植不同品种的蔬菜；(2分) 同一品种蔬菜在不同海拔高度成熟的时间有差异，可保证 5—10月份的市场供应；(2分) 坡度阶梯种植，利于保持水分和改善生态环境。(2分)

(3)【答案】：蔬菜品种多，质量好；(2分) 有便利的交通运输条件以及冷藏保鲜技术等。(2分)

(4)【答案】：扩大种植规模，实现规模效益，开拓国内外市场；推进蔬菜产业的深加工，延长产业链，增加附加值；加大科技投入，确保高原夏菜的品牌优势；建立信息—生产—储藏—运输—销售一体化体系；合理利用水资源，保护坡地生态。

(每点2分，任答三点，共 6分)

37、(1)【答案】：丹麦濒临海洋，常年受西风带影响，(2分) 风能资源丰富；(2分) 地形以平原为主，地势平坦；(2分) 河流较短、落差小，水能资源匮乏；(2分) 纬度较高，阴天多，(2分) 太阳能资源匮乏。(2分)

(2)【答案】：风电具有不稳定的特点，(2分) 当风力较弱时，需要备用电源“补谷”，维持电网的稳定运行；当风力较弱时，可出口风电到周边国家进行“削峰”。(2分)

(3)【答案】：(明确风电作为新能源的战略发展地位；) 加强电网基础设施建设，提高输电能力；(2分) 建设火电、热点等调节电站，或与周边地区火电、水电联网，弥补风电不稳点的缺陷；(2分) 政府给予政策支持与经济补贴，推动风电产业的发展(或利用法律手段强制规定电网收购一定比例的风电)。(2分)

【答案】：(明确风电作为新能源的战略发展地位；) 加强电网基础设施建设，提高输电能力；(2分) 建设火电、热点等调节电站，或与周边地区火电、水电联网，弥补风电不稳点的缺陷；(2分) 政府给予政策支持与经济补贴，推动风电产业的发展(或利用法律手段强制规定电网收购一定比例的风电)。(2分)

42、【答案】：红层荒漠作为地质地貌景观，(2分) 具有独特的美学价值和科教价值；(2分) 大众、科普、摄影旅游的市场潜力大；(2分) 景观由原始生态环境转化，对环境的影响小，旅游开发的成本低；(2分) 旅游开发是对红层荒漠的综合利用与治理的一种积极形式，有利于经济和社会发展。(2分)

43、【答案】：由于环境恶化，我国萤火虫的种类和数量减少；(2分) 萤火虫在捕捉、运输、放飞后死亡率极高；(4分) 举办“萤火虫主题公园”，造成萤火虫大量死亡，破坏生态与生物多样性；(2分) 同时，会助长为获得经济利益而破坏生态的行为。