



2015~2016 学年八年级第一学期阶段性测评(一)

地理试卷

(考试时间:上午 10:00—11:30)

说明:本试卷为闭卷笔答,答题时间 90 分钟,满分 100 分。

题号	一	二	三	四	总分
得分					

一、选择题(下列各题的选项中,只有一项正确,请将正确选项的字母填入下表相应位置。每小题 2 分,共 30 分。)

题号	1	2	3	4	5	6	7	8	9	10	11	12	13	14	15
答案															

- 从半球位置来看,我国位于
 - 南半球,西半球
 - 北半球,西半球
 - 南半球,东半球
 - 北半球,东半球
- 纵贯我国东南海域,有“海上走廊”之称的是
 - 琼州海峡
 - 渤海
 - 台湾海峡
 - 东海
- 我国最早迎来新一天的省区是
 - 新疆维吾尔自治区
 - 黑龙江省
 - 内蒙古自治区
 - 台湾省
- 下列关于我国人口的叙述,正确的是
 - 基数大,每年净增人口不断减少
 - 总数保持不变
 - 基数大,每年净增人口依然很多
 - 总数开始减少
- “……你可别吃醋啊……”,生活中常用来比喻某种情感的体验,我国确实有个地方的居民口味偏酸,以“吃醋”闻名。该居民主要生活在
 - 山西省
 - 陕西省
 - 河南省
 - 湖南省
- 我国人数最多的民族是
 - 汉族
 - 回族
 - 壮族
 - 满族
- “高山青,涧水蓝,阿里山的姑娘美如水呀,阿里山的少年壮如山唉……”,这首歌让听众领略了原汁原味的台湾风情,歌词中主要描述了台湾的
 - 壮族
 - 纳西族
 - 傣族
 - 高山族

- 每年的秋末、冬季和初春,山西最常见的天气现象是
 - 梅雨
 - 台风
 - 暴雨
 - 寒潮
- 我国最长的内流河是
 - 塔里木河
 - 长江
 - 黄河
 - 珠江
- 我国夏季气温最高的地方是
 - 海口
 - 吐鲁番
 - 昆明
 - 上海
- 下面两幅图是同一时间、不同地区学生的着装,造成两种景观差异的主要因素是



哈尔滨



海口

- 海陆分布
 - 地形
 - 纬度位置
 - 降水
- 我国面积最大的湖泊是
 - 鄱阳湖
 - 青海湖
 - 太湖
 - 洞庭湖
 - (《长江之歌》唱到“你从雪山走来,春潮是你的风采;你向东海奔去,惊涛是你的气概……”,从这些歌词中能感受到长江的
 - 发源地地势高
 - 春季水量大增
 - 向东流入东海
 - 支流众多
 - ①②③
 - ①②④
 - ①③④
 - ②③④
 - 长江被誉为“黄金水道”的主要原因是
 - 流域周边经济发达
 - 沿岸物产丰富
 - 通航里程长且运输条件好
 - 水能资源丰富
 - 同纬度相比,北非撒哈拉地区干旱少雨、沙漠广布,我国长江以南地区青山绿水、物产丰富,造成两地差异的主要因素是
 - 冬季风
 - 台风
 - 夏季风
 - 飓风

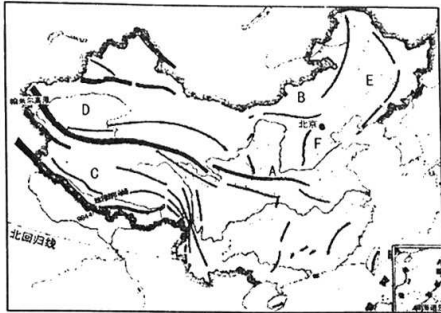
二、连线题(共 10 分)

16. (10 分)将下列叙述、省区名称及其行政中心分别用直线连接起来。
- | | | |
|-------------|-----------|---------|
| A. 面积最大 | ①内蒙古自治区 | a. 海口 |
| B. 跨经度最广 | ②西藏自治区 | b. 乌鲁木齐 |
| C. 拥有布达拉宫 | ③新疆维吾尔自治区 | c. 呼和浩特 |
| D. 直接濒临太平洋 | ④海南省 | d. 拉萨 |
| E. 所辖海域面积最大 | ⑤台湾省 | e. 台北 |



三、读图分析题(共 45 分)

17. (15 分)读“中国地形分布示意图”,完成下列各题。



(1)在图中用 2B 铅笔或碳素笔描出地势第二级与第三级阶梯的分界线。(1 分)

(2)写出图中字母所代表的地理事物的名称。(6 分)

山脉:A _____ 高原:B _____ C _____

盆地:D _____ 平原:E _____ F _____

(3)下图能准确反映我国地势特征的是() (2 分)



(4)仅考虑河流落差,假如你是水电专家,会把水电站建在我国的() (2 分)

- A. 阶梯交界地带
- B. 第一级阶梯
- C. 第二级阶梯
- D. 第三级阶梯

(5)《三国演义》主题曲“滚滚长江东逝水,浪花淘尽……”,请说出我国地势的主要特征。(2 分)

(6)结合我国地势的主要特征,分析山区面积广大对人们生产生活的有利和不利影响。(2 分)

18. (15 分)读“中国干湿地区分布示意图”,完成下列各题。



(1)在图中用 2B 铅笔或碳素笔描出湿润与半湿润地区的分界线。(1 分)

(2)根据 _____ 与 _____ 的关系,可将我国划分为四类干湿地区。其中湿润和半湿润地区的分界线大致通过 _____ (山脉)—— _____ (河流)一线和青藏高原的东南边缘。(4 分)

(3)图中城市位于湿润地区的有武汉、_____、广州和 _____;位于半湿润地区的有北京和 _____;位于半干旱地区的有兰州和 _____;而乌鲁木齐正好介于干旱与半干旱地区之间。(4 分)

(4)我国年降水量最多的地方是() (2 分)

- A. 台湾火烧寮
- B. 吐鲁番盆地
- C. 曾母暗沙
- D. 珠江三角洲

(5)从干湿地区来看,山西省属于() (2 分)

- A. 湿润和干旱地区
- B. 干旱和半干旱地区
- C. 湿润和半湿润地区
- D. 半湿润和半干旱地区

(6)说说下图中房屋建筑形式与当地降水之间的关系。(2 分)



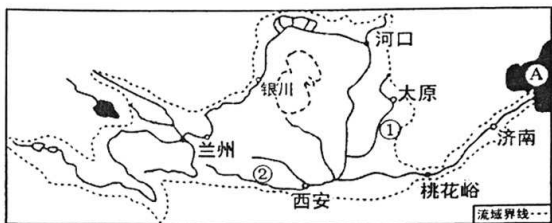
甘肃夏河县土墙平屋顶



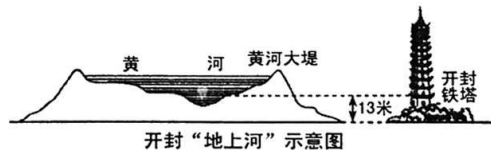
浙江绍兴市砖墙斜屋顶



19. (15分) 读“黄河流域示意图”，完成下列各题。



- (1) 在图中用 2B 铅笔或碳素笔描出黄河的主干道。(1分)
- (2) 黄河发源于巴颜喀拉山北麓，注入的海域 A 为 _____，是我国第 _____ 长河。其中中游接纳了两条重要支流，①是 _____，②是 _____。(4分)
- (3) 黄河从河口到桃花峪为中游，主要流经的地形区是 _____ 高原；从桃花峪至入海口为下游，主要流经的地形区是 _____ 平原。(2分)
- (4) 我国古籍中有“河水一石，其泥六斗”的句子，它所描述的河流可能是() (2分)
 - A. 长江
 - B. 黄河
 - C. 珠江
 - D. 黑龙江
- (5) 黄河流域水能资源丰富，主要集中在() (2分)
 - A. 源头
 - B. 下游
 - C. 中游
 - D. 上游
- (6) 如图是黄河下游形成的“地上河”，其形成的主要原因是什么？请针对黄河不同河段的开发和治理献计献策。(4分)



四、材料分析题(共 15 分)

20. (15分) 阅读图文资料，完成下列各题。

材料一：“中国疆域示意图”



材料二：我国位于亚欧大陆东部，太平洋西岸，是世界上受季风影响最明显的国家之一，降水主要集中在盛行西南季风和东南季风的夏季。据报道，今年进入汛期以来，我国降水呈现“南涝北旱”的特征，5月开始，南方暴雨频繁，北方出现高温；5月下旬，京津冀部分地区最高温突破 35℃，平均气温较常年同期偏高 3.2℃，为近 14 年来同期最高。

- (1) 在图中用阴影表示台湾岛。(1分)
- (2) 我国是世界上受季风影响最明显的国家之一，夏季盛行 _____ 季风和 _____ 季风，降水丰富，大部分地区高温期与 _____ 期一致，今年南方暴雨频繁，北方出现 _____，降水呈现“_____”的特征。(5分)
- (3) 导致我国雨季、雨量异常，造成洪涝和干旱灾害的主要原因是() (2分)
 - A. 冬季风的强弱和进退迟早
 - B. 纬度位置
 - C. 夏季风的强弱和进退迟早
 - D. 海陆分布
- (4) 我国的内海是指() (2分)
 - A. 渤海和黄海
 - B. 渤海和琼州海峡
 - C. 黄海和东海
 - D. 东海和南海
- (5) 季风气候显著是我国气候最突出的特征之一，请说出我国季风气候的类型。(3分)

(6) 请说出我国海陆位置的特征。(2分)